

Visite nossas
redes sociais



SOS PROFESSOR
ATIVIDADES

por Betânia Arrimiano



<https://sosprofessoratividades.com>



<https://br.pinterest.com/betasobeta/sosprofessoratividades/>



<https://www.facebook.com/sosprofessoratividades/>



<https://www.instagram.com/sosprofessoratividades/>



https://www.youtube.com/channel/UCxN9wo1jE1txew9bzdO58A?view_as=subscriber

Produção: sosprofessoratividades.com


Todos os direitos reservados ao sosprofessoratividades.com. É proibido distribuir, reproduzir ou vender este material por qualquer meio, seja eletronicamente ou impresso, bem como reivindicá-lo como seu e tentar modificar ou remover avisos de direitos autorais, logotipos ou marcas d'água, uma vez que é protegido por direitos autorais. O não cumprimento é uma violação da Lei de Direitos Autorais e pode ter consequências legais. Lei dos direitos autorais, nº 9.610/98

Cliparts que utilizo:



Quer mais atividades?

Clique nas imagens abaixo.




NOME: _____

TURMA: _____

DATA: ____/____/____

SosProfessorAtividades.com



SND - Classe dos milhares

1- Represente os números no QVL e responda corretamente.

2ª classe Classe dos milhares			1ª classe Classe das unidades simples		
6ª ordem	5ª ordem	4ª ordem	3ª ordem	2ª ordem	1ª ordem
Centenas de milhar	Dezenas de milhar	Unidades de milhar	Centenas	Dezenas	Unidades
a)					
b)					
c)					
d)					
e)					

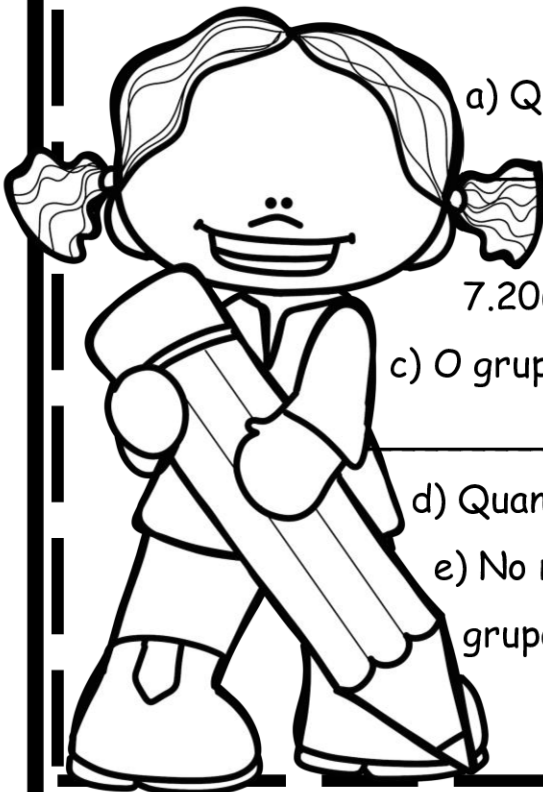
a) Quantas ordens e classes tem o número 912? _____

b) Quantas ordens e classes tem o número 7.206? _____

c) O grupo 57 representa qual classe no número 57.314? _____

d) Quantas ordens tem o número 629.400? _____

e) No número 325.985, qual a classe representada pelo grupo 985? _____



2- Escreva por extenso cada um dos seguintes números.

a) 2.516 _____

b) 3.964 _____

c) 93.876 _____

d) 174 _____

e) 173.967 _____

f) 134.560 _____

3- Rescreva por extenso as quantias abaixo em reais.

a) R\$ 45.609,00 _____

b) R\$ 369.004,00 _____

c) R\$ 1.274,00 _____

4- Usando algarismos e o quadro de classes, escreva os números seguintes.

a) Duzentos e cinquenta e cinco mil, trezentos e oitenta e nove.

--	--	--	--	--	--	--	--	--	--

b) Dois mil e noventa e dois.

--	--	--	--	--

c) Trinta e sete mil e cem.

--	--	--	--	--	--	--	--	--	--

