

Visite nossas
redes sociais



SOS PROFESSOR
ATIVIDADES

por Betânia Arrimiano



<https://sosprofessoratividades.com>



<https://br.pinterest.com/betasobeta/sosprofessoratividades/>



<https://www.facebook.com/sosprofessoratividades/>



<https://www.instagram.com/sosprofessoratividades/>



https://www.youtube.com/channel/UCxN9wo1jE1txew9bzdO58A?view_as=subscriber

Produção: sosprofessoratividades.com

Todos os direitos reservados ao sosprofessoratividades.com. É proibido distribuir, reproduzir ou vender este material por qualquer meio, seja eletronicamente ou impresso, bem como reivindicá-lo como seu e tentar modificar ou remover avisos de direitos autorais, logotipos ou marcas d'água, uma vez que é protegido por direitos autorais. O não cumprimento é uma violação da Lei de Direitos Autorais e pode ter consequências legais. Lei dos direitos autorais, nº 9.610/98

Cliparts que utilizo:



Quer mais atividades? Clique nas imagens abaixo.

Perímetro e ângulo

NOME: _____ DATA: _____

TURMA: _____

1- Calcule o perímetro das figuras abaixo.

3 cm 3 cm 2 cm 2 cm
4 cm 2 cm 2 cm

2- Observe as figuras e calcule a área, considerando que 1 \square = 1 cm^2 .

3- Resolva os desafios.

a) Comprei um armário em 12 prestações de R\$ 20,00. Quanto custou o armário?

b) Em um fim de semana gastei R\$ 135,00 no mercado. No final da semana seguinte gastei mais R\$ 123,50. Quanto gastei nos dois comprando?

R: _____

a) Arme a resolução dos desafios. b) $288 \div 12 =$ _____

a) $1.023 \div 27 =$ _____

4- Observe as figuras. Escreva se o ângulo marcado é reto, obtuso ou agudo.

SosProfessor

SosProfessorAtividades.com

Segmento de reta

NOME: _____ DATA: _____

TURMA: _____

SEGMENTO DE RETA

1- Quantos segmentos de reta há na figura ao lado? Indique-os.

2- Usando uma régua, ligue os segmentos de reta e forme uma figura em cada item.

a) Que nome recebe cada figura que você formou?

b) Identifique os segmentos de reta das figuras.

3- Ligue os pontos em ordem alfabética. Depois, ligue o ponto E ao ponto A.

a) Que figura formou?

b) Quais são os segmentos de reta?

SOS Professor Atividades

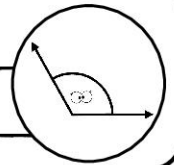
@sosprofessor

SOS PROFESSOR ATIVIDADES

por Betânia Abramiani


NOME: _____

TURMA: _____ DATA: ____/____/____



ÂNGULOS

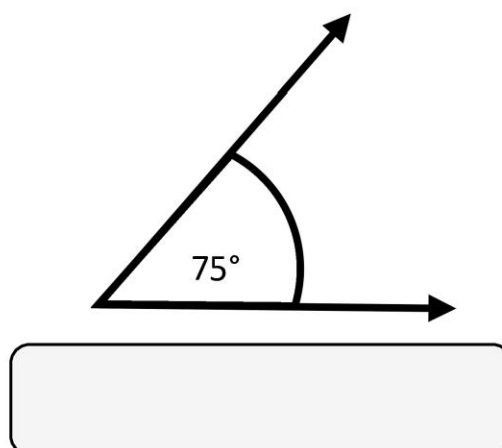
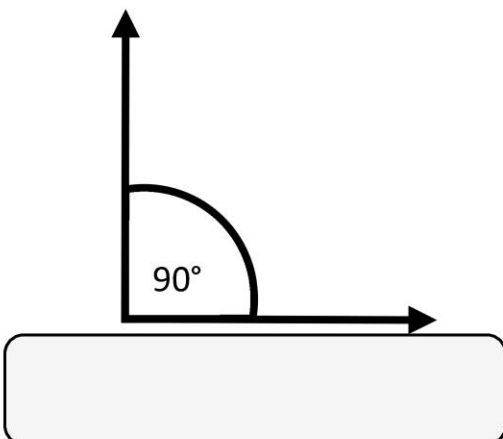
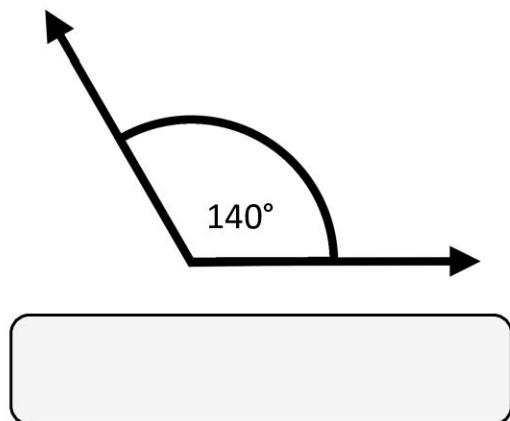
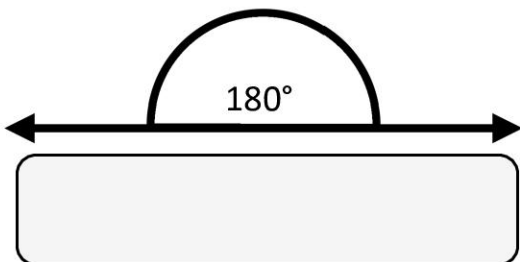
@sosprofessoratividades.com



Os ângulos podem ser:

- ângulo agudo quando a sua abertura em grau é maior do que 0° e menor que 90° .
- ângulo reto é a medida exata em abertura de 90° .
- ângulo obtuso é a abertura maior que 90° e menor que 180° .
- ângulo raso é a quando a medida tem exatamente 180° .

1- Classifique os ângulos abaixo, de acordo com o grau.



2- Cole na tabela abaixo as figuras de acordo com o ângulo

Agudo	Obtuso	Reto

SosProfessoratividades.com

