

NOME: \_\_\_\_\_

TURMA: \_\_\_\_\_ DATA: \_\_\_\_/\_\_\_\_/\_\_\_\_



@sosprofessoratividades.com

# MATEMÁTICA

1- Calcule mentalmente e complete as igualdades.

- a)  $3 \times \dots = \dots \times 3 = 12$       c)  $6 \times 5 = 5 \times \dots = \dots$   
b)  $7 \times \dots = 8 \times \dots = \dots$       d)  $9 \times \dots = \dots \times 9 = \dots$

2- Calcule no caderno.

- a) O dobro de 4 petecas = .....  
b) O triplo de 8 lápis = .....  
c) O dobro de 9 pirulitos = .....  
d) O triplo de 12 estrelas = .....  
e) O dobro de 8 balas = .....  
f) O triplo de 11 peixes = .....  
g) O dobro de 5 flores = .....  
h) O triplo de 15 cadernos = .....

3- Responda.

- a) Qual é o dobro de 6? .....  
b) Qual é o dobro de 7? .....  
c) Qual é o dobro de 5? .....  
d) Qual é o triplo de 4? .....  
e) Qual é o triplo de 9? .....  
f) Qual é o triplo de 13? .....  
g) Qual é o triplo de 11? .....  
h) Qual é o quádruplo de 9? .....  
i) Qual é o quádruplo de 12? .....



@sosprofessoratividades.com

4- Efetue as multiplicações abaixo:

a)	b)	c)	d)	e)	f)	g)	h)	i)	j)	g)
458	956	748	1.548	5.236	504	145	391	8.976	627	870
X 2	X 3	X 4	X 5	X 6	X 7	X 8	X 9	X 8	X 9	X 7

5- Calcule mentalmente.

X	10	20	30	40	50	60	70	80	90
8									

X	10	9	8	7	6	5	4	3	2	1	0
7											




X	100	200	300	400	500	600	700	800	900
5									

X	1.000	2.000	3.000	4.000	5.000	6.000	7.000	8.000	9.000
5									

X	2	3	4	5	6	7	8	9
10								

X	9	15	28	37	406	54	620	71
100								

X	9	23	35	482	53	754	12	10
1.000								



NOME: \_\_\_\_\_

TURMA: \_\_\_\_\_ DATA: \_\_\_\_/\_\_\_\_/\_\_\_\_



@sosprofessoratividades.com

# MATEMÁTICA

1- Calcule mentalmente e complete as igualdades.

a)  $3 \times \dots 4 \dots = \dots 4 \dots \times 3 = 12$

c)  $6 \times 5 = 5 \times \dots 6 \dots = \dots 30 \dots$

b)  $7 \times \dots 8 \dots = 8 \times \dots 7 \dots = \dots 56 \dots$

d)  $9 \times \dots 0 \dots = \dots 0 \dots \times 9 = \dots 0 \dots$

2- Calcule no caderno.

a) O dobro de 4 petecas =  $\dots 8 \dots$

b) O triplo de 8 lápis =  $\dots 24 \dots$

c) O dobro de 9 pirulitos =  $\dots 18 \dots$

d) O triplo de 12 estrelas =  $\dots 36 \dots$

e) O dobro de 8 balas =  $\dots 16 \dots$

f) O triplo de 11 peixes =  $\dots 33 \dots$

g) O dobro de 5 flores =  $\dots 10 \dots$

h) O triplo de 15 cadernos =  $\dots 45 \dots$

3- Responda.

a) Qual é o dobro de 6?  $\dots 12 \dots$

b) Qual é o dobro de 7?  $\dots 14 \dots$

c) Qual é o dobro de 5?  $\dots 10 \dots$

d) Qual é o triplo de 4?  $\dots 12 \dots$


e) Qual é o triplo de 9?  $\dots 27 \dots$

f) Qual é o triplo de 13?  $\dots 39 \dots$

g) Qual é o triplo de 11?  $\dots 22 \dots$

h) Qual é o quádruplo de 9?  $\dots 36 \dots$

i) Qual é o quádruplo de 12?  $\dots 60 \dots$



@sosprofessoratividades.com

4- Efetue as multiplicações abaixo:

a)	b)	c)	d)	e)	f)	g)	h)	i)	j)	g)
458	956	748	1.548	5.236	504	145	391	8.976	627	870
X 2	X 3	X 4	X 5	X 6	X 7	X 8	X 9	X 8	X 9	X 7
<b>916</b>	<b>2868</b>	<b>2992</b>	<b>7740</b>	<b>31416</b>	<b>3528</b>	<b>1160</b>	<b>3519</b>	<b>71808</b>	<b>5643</b>	<b>6090</b>

5- Calcule mentalmente.

X	10	20	30	40	50	60	70	80	90
8	<b>80</b>	<b>160</b>	<b>240</b>	<b>320</b>	<b>400</b>	<b>480</b>	<b>560</b>	<b>640</b>	<b>720</b>

X	10	9	8	7	6	5	4	3	2	1	0
7	<b>70</b>	<b>63</b>	<b>56</b>	<b>49</b>	<b>42</b>	<b>35</b>	<b>28</b>	<b>21</b>	<b>14</b>	<b>7</b>	<b>0</b>




X	100	200	300	400	500	600	700	800	900
5	<b>500</b>	<b>1000</b>	<b>1500</b>	<b>2000</b>	<b>2500</b>	<b>3000</b>	<b>3500</b>	<b>4000</b>	<b>4500</b>

X	1.000	2.000	3.000	4.000	5.000	6.000	7.000	8.000	9.000
5	<b>5000</b>	<b>10000</b>	<b>15000</b>	<b>20000</b>	<b>25000</b>	<b>30000</b>	<b>35000</b>	<b>40000</b>	<b>45000</b>

X	2	3	4	5	6	7	8	9
10	<b>20</b>	<b>30</b>	<b>40</b>	<b>50</b>	<b>60</b>	<b>70</b>	<b>80</b>	<b>90</b>

X	9	15	28	37	406	54	620	71
100	<b>900</b>	<b>1500</b>	<b>2800</b>	<b>3700</b>	<b>40600</b>	<b>5400</b>	<b>62000</b>	<b>7100</b>

X	9	23	35	482	53	754	12	10
1.000	<b>9000</b>	<b>23000</b>	<b>35000</b>	<b>482000</b>	<b>53000</b>	<b>754000</b>	<b>12000</b>	<b>10000</b>



Visite nossas  
redes sociais



<https://sosprofessoratividades.com>



<https://br.pinterest.com/betasobeta/sosprofessoratividades/>



<https://www.facebook.com/sosprofessoratividades/>



<https://www.instagram.com/sosprofessoratividades/>



[https://www.youtube.com/channel/UCxN9wo1jE1txew9bzd\\_O58A?view\\_as=subscriber](https://www.youtube.com/channel/UCxN9wo1jE1txew9bzd_O58A?view_as=subscriber)

Produção: [sosprofessoratividades.com](https://sosprofessoratividades.com)

Este material é totalmente gratuito e elaborado por [@sosprofessoratividades.com](https://sosprofessoratividades.com). Todas as atividades do blog/site são protegidas pela lei dos direitos autorais, nº 9.610/98 - proibido a venda, cópias para outros sites, blogs ou redes sociais.

Direito de imagem

