

NOME: \_\_\_\_\_  
TURMA: \_\_\_\_\_ DATA: \_\_\_\_/\_\_\_\_/\_\_\_\_



@sosprofessoratividades.com

# Rei da Pizza

35 cm 3 Sabores  
45 cm 3 Sabores  
60 cm 4 Sabores

Disk Pizza  
47 3369-0051  
47 3369-1313

Forno à Lenha

Disk Pizza  
47 3369-0051  
47 3369-1313

Av. Falcão nº 157 - Bombas - Bombinhas - SC

1 Assinale o nome do estabelecimento comercial do folheto acima.

( a ) Forno a Lenha    ( b ) Rei da Pizza    ( c ) Disk Pizza


2- No número do telefone 33690051, há \_\_\_\_\_ algarismos.

3- O endereço da pizzeria é Av. Falcão nº 157 - Bombas. Observando o número podemos afirmar que o algarismo 5 tem o seguinte valor relativo:

( a ) 50                      ( b ) 5.000                      ( c ) 500

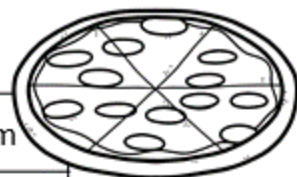
4- As pizzas apresentam tamanhos diferentes. A de quatro sabores tem:

( a ) 45 cm                      ( b ) 35 cm                      ( c ) 60 cm



@sosprofessoratividades.com

5- Observe a tabela de preços.



PIZZAS	GRANDE 60 cm	BROTÃO 35 cm
Calabresa	R\$ 32,00	R\$ 18,00
Quatro queijos	R\$ 33,00	R\$ 26,50
Portuguesa	R\$ 40,00	R\$ 22,50
Marguerita	R\$ 30,00	R\$ 17,00
Brigadeiro	R\$ 28,00	R\$ 16,00
Romeu e Julieta	R\$ 25,00	R\$ 14,50

- a) João comprou uma pizza grande Portuguesa e um brotão de Marguerita. Quanto ele pagou?

R: \_\_\_\_\_

- b) Calcule a diferença de preço entre uma pizza grande Quatro Queijos e uma brotão de Calabresa.

R: \_\_\_\_\_

- c) Você tem R\$ 70,00. Escolha uma pizza doce e uma salgada. Veja quanto você gastará com a compra das pizzas e quanto sobrar de troco.

R: \_\_\_\_\_





NOME: \_\_\_\_\_  
TURMA: \_\_\_\_\_ DATA: \_\_\_\_/\_\_\_\_/\_\_\_\_



@sosprofessoratividades.com

# Rei da Pizza

35 cm 3 Sabores  
45 cm 3 Sabores  
60 cm 4 Sabores

Disk Pizza  
47 3369-0051  
47 3369-1313

Forno à Lenha

Disk Pizza  
47 3369-0051  
47 3369-1313

Av. Falcão nº 157 - Bombas - Bombinhas - SC

1 Assinale o nome do estabelecimento comercial do folheto acima.

( a ) Forno a Lenha    (  b ) Rei da Pizza    ( c ) Disk Pizza


2- No número do telefone 33690051, há 8 algarismos.

3- O endereço da pizzeria é Av. Falcão nº 157 - Bombas. Observando o número podemos afirmar que o algarismo 5 tem o seguinte valor relativo:

(  a ) 50                      ( b ) 5.000                      ( c ) 500

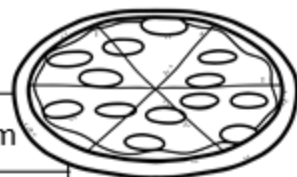
4- As pizzas apresentam tamanhos diferentes. A de quatro sabores tem:

( a ) 45 cm                      ( b ) 35 cm                      (  c ) 60 cm



@sosprofessoratividades.com

5- Observe a tabela de preços.



PIZZAS	GRANDE 60 cm	BROTÃO 35 cm
Calabresa	R\$ 32,00	R\$ 18,00
Quatro queijos	R\$ 33,00	R\$ 26,50
Portuguesa	R\$ 40,00	R\$ 22,50
Marguerita	R\$ 30,00	R\$ 17,00
Brigadeiro	R\$ 28,00	R\$ 16,00
Romeu e Julieta	R\$ 25,00	R\$ 14,50

- a) João comprou uma pizza grande Portuguesa e um brotão de Marguerita. Quanto ele pagou?

$$40 + 17 = 57$$

- b) Calcule a diferença de preço entre uma pizza grande Quatro Queijos e uma brotão de Calabresa.

$$33 - 18 = 15$$

- c) Você tem R\$ 70,00. Escolha uma pizza doce e uma salgada. Veja quanto você gastará com a compra das pizzas e quanto sobrará de troco.

Pessoal

Visite nossas  
redes sociais



<https://sosprofessoratividades.com>



<https://br.pinterest.com/betasobeta/sosprofessoratividades/>



<https://www.facebook.com/sosprofessoratividades/>



<https://www.instagram.com/sosprofessoratividades/>



[https://www.youtube.com/channel/UCxN9wo1jE1txew9bzd\\_O58A?view\\_as=subscriber](https://www.youtube.com/channel/UCxN9wo1jE1txew9bzd_O58A?view_as=subscriber)

Produção: [sosprofessoratividades.com](https://sosprofessoratividades.com)

Este material é totalmente gratuito e elaborado por [@sosprofessoratividades.com](https://sosprofessoratividades.com). Todas as atividades do blog/site são protegidas pela lei dos direitos autorais, nº 9.610/98 - proibido a venda, cópias para outros sites, blogs ou redes sociais.

Direito de imagem

