


ESCOLA _____

NOME: _____ DATA: ____ / ____ / ____

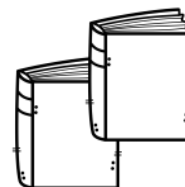


Recorte, cole e resolva no seu caderno.

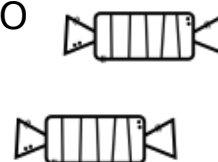
1-UMA CAIXA TINHA 273 PREGOS. COLOQUEI MAIS 358. QUANTOS PREGOS HÁ NA CAIXA AGORA?



2-EM UMA ESTANTE HAVIA 367 LIVROS. FORAM COLOCADOS MAIS 185 LIVROS. QUANTOS LIVROS FICARAM NA ESTANTE?



3-VICENTE GANHOU 48 BALAS DE SEU PADRINHO E 12 BALAS DE SUA MADRINHA. QUANTAS BALAS GANHOU?



4-UMA QUITANDA RECEBEU 25 CAIXAS COM 8 PÊSSEGOS EM CADA UMA. QUANTOS PÊSSEGOS RECEBEU?




5-JOSÉ TINHA UMA DEZENA E MEIA DE BOLINHAS DE GUDE. DEU 6 A SEU IRMÃO. COM QUANTAS JOSÉ FICOU?



6-NUM CINEMA HÁ 6230 POLTRONAS DISTRIBUÍDAS EM 7 FILEIRAS IGUAIS. QUANTOS POLTRONAS HÁ EM CADA FILEIRA?



7-EUNICE COLOU 105 FIGURINHAS NO SEU ÁLBUM E AINDA FALTAM 274 FIGURINHAS PARA ACABAR DE ENCHÊ-LO. QUANTAS FIGURINHAS TEM O ÁLBUM?



8-MAMÃE ASSA 75 EMPADAS DE CADA VEZ. EM 6 VEZES, QUANTAS EMPADAS SERÃO ASSADAS?



9-PAULO POSSUÍA 25 CD. TOMOU ALGUNS EMPRESTADOS PARA UMA FESTA E FICOU ENTÃO COM 43. QUANTOS FORAM OS CDs EMPRESTADOS?



10-EM UM DESFILE, 952 CRIANÇAS MARCHAM EM 4 GRUPOS. QUANTAS CRIANÇAS ESTÃO MARCHANDO EM CADA GRUPO?



11-GUARDEI 378 CARTÕES EM 9 ENVELOPES. QUANTOS CARTÕES COLOQUEI EM CADA ENVELOPE?



12-TENHO QUE COLOCAR 645 LIVROS EM 5 PRATELEIRAS DE UMA ESTANTE. QUANTOS LIVROS COLOCAREI EM CADA PRATELEIRA?



Gabarito

1) $273 + 358 = 631$

2) $367 + 185 = 552$

3) $48 + 12 = 60$

4) $8 \times 25 = 200$

5) $15 - 6 = 9$

6) $6.230 : 7 = 890$

7) $105 + 274 = 289$

8) $6 \times 75 = 450$

9) $43 - 25 = 18$

10) $952 : 4 = 238$

11) $378 : 9 = 42$

12) $645 : 5 = 129$

Visite nossos sites

<https://www.sosprofessor-atividades.com.br/>

<https://br.pinterest.com/betasobeta/sosprofessor-atividades/>

<https://www.facebook.com/sosprofessoratividades/>

<https://www.instagram.com/sosprofessoratividades/>



https://www.youtube.com/channel/UCxN9wo1jE1txew9bzd_058A?view_as=subscriber

Produção SOSprofessor-atividades

