

ESCOLA \_\_\_\_\_

NOME: \_\_\_\_\_ DATA: \_\_\_\_/\_\_\_\_/\_\_\_\_




### **AVALIAÇÃO DIAGNÓSTICA DE MATEMÁTICA**

1. Veja a promoção que a Churrascaria Boizão está fazendo.

**PROMOÇÃO DE**

**CHURRASCO RODÍZIO**

- Para uma pessoa – 16 reais
- Para 5 pessoas – 65 reais
- Para 8 pessoas – 80 reais



Quanto deverá pagar cada pessoa de um grupo de 5 pessoas?

- (A) 65 reais    (B) 60 reais    (C) 13 reais    (D) 48 reais    (E) 15 reais

2. Dona Elza saiu de casa com R\$ 180,00. Gastou R\$ 51,00 no supermercado e R\$ 120,00 na farmácia. Dona Elza voltou para casa com:

- (A) 9 reais    (B) 129 reais    (C) 355 reais    (D) 60 reais    (E) 19 reais

3. Sou um número que quando se subtrai 15, fica igual a 30. Quem sou?

- (A) 20    (B) 23    (C) 45    (D) 60    (E) 32

4. Márcia tem um pacote com 50 folhas de papel. Pretende fazer um caderno de 15 folhas, para cada um dos seus 35 alunos. Vão faltar ou sobrar folhas? Quantas?

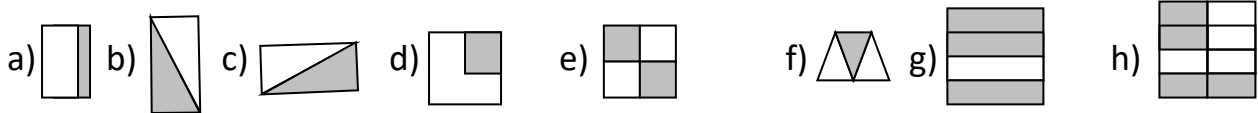
- (A) vão faltar 43 folhas  
(B) vão sobrar 43 folhas  
(C) vão sobrar 25 folhas  
(D) vão faltar 25 folhas  
(E) nenhuma das alternativas

5. Edgar recebe R\$ 65,00 por dia. Quanto ele recebe por semana?

- (A) R\$ 82,00    (B) R\$ 500,00    (C) R\$ 455,00  
(D) R\$ 820,00    (E) R\$ 130,00



6. Em qual das situações foi pintado um meio da figura?



- (A) a,c,d,e      (B) c,d,f,g      (C) b,c,e,g      (D) a,d,e,g      (E) b,c,e,h

7. Observe os números e marque a alternativa correta:

**3,4**

**1,7**

**0,3**

**0,5**

Que números são menores que um inteiro?

- (A) 3,4 e 0,5      (B) 1,7 e 3,4      (C) 3,4 e 0,3      (D) 0,3 e 0,5      (E) 1,7 e 0,5

8. Vilma comprou 4 pacotes de pirulitos com 25 pirulitos cada pacote. Vai arramá-los em saquinhos, colocando 5 pirulitos em cada um. Quantos saquinhos Vilma arrumará?

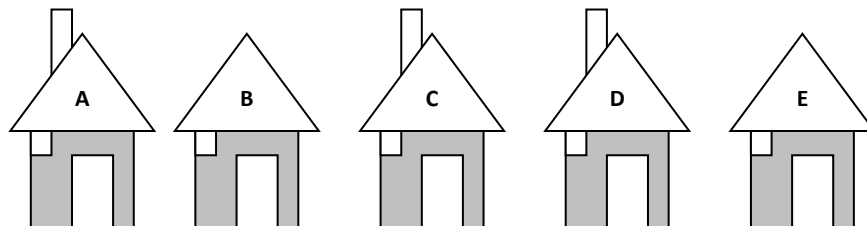
- (A) 21 saquinhos      (D) 34 saquinhos  
 (B) 45 saquinhos      (E) 16 saquinhos  
 (C) 20 saquinhos



9. Qual é a casa de Felipe?

A casa de Beto tem chaminé. A casa de Felipe fica à esquerda da casa de Beto e não é vizinha da casa C

- (A) Casa A  
 (B) Casa B  
 (C) Casa C  
 (D) Casa D  
 (E) Casa E



10. Observe o número e responda qual é o valor do numeral 3.

**13 800**

- (A) 300      (B) 3.000      (C) 3      (D) 30      (E) 30.000

As respostas só serão válidas, se os cálculos estiverem feitos ao lado da questão, ou no verso da folha. Numerados respectivamente, quando necessário.



ESCOLA \_\_\_\_\_

NOME: \_\_\_\_\_ DATA: \_\_\_\_/\_\_\_\_/\_\_\_\_




### AVALIAÇÃO DIAGNÓSTICA DE MATEMÁTICA

1. Veja a promoção que a Churrascaria Boizão está fazendo.

**PROMOÇÃO DE**  
**CHURRASCO RODÍZIO**

- Para uma pessoa – 16 reais
- Para 5 pessoas – 65 reais
- Para 8 pessoas – 80 reais



Quanto deverá pagar cada pessoa de um grupo de 5 pessoas?

- (A) 65 reais    (B) 60 reais     (C) 13 reais    (D) 48 reais    (E) 15 reais

2. Dona Elza saiu de casa com R\$ 180,00. Gastou R\$ 51,00 no supermercado e R\$ 120,00 na farmácia. Dona Elza voltou para casa com:

- (A) 9 reais    (B) 129 reais    (C) 355 reais    (D) 60 reais    (E) 19 reais

3. Sou um número que quando se subtrai 15, fica igual a 30. Quem sou?

- (A) 20    (B) 23     (C) 45    (D) 60    (E) 32

4. Márcia tem um pacote com 50 folhas de papel. Pretende fazer um caderno de 15 folhas, para cada um dos seus 35 alunos. Vão faltar ou sobrar folhas? Quantas?









- (A) vão faltar 43 folhas  
(B) vão sobrar 43 folhas  
(C) vão sobrar 25 folhas  
(D) vão faltar 25 folhas  
 (E) nenhuma das alternativas

5. Edgar recebe R\$ 65,00 por dia. Quanto ele recebe por semana?

- (A) R\$ 82,00    (B) R\$ 500,00     (C) R\$ 455,00  
(D) R\$ 820,00    (E) R\$ 130,00



6. Em qual das situações foi pintado um meio da figura?

- a)  b)  c)  d)  e)  f)  g)  h) 
- (A) a,c,d,e (B) c,d,f,g (C) b,c,e,g (D) a,d,e,g (E) b,c,e,h

7. Observe os números e marque a alternativa correta:

3,4

1,7

0,3

0,5

Que números são menores que um inteiro?

- (A) 3,4 e 0,5 (B) 1,7 e 3,4 (C) 3,4 e 0,3 (D) 0,3 e 0,5 (E) 1,7 e 0,5

8. Vilma comprou 4 pacotes de pirulitos com 25 pirulitos cada pacote. Vai arruma-los em saquinhos, colocando 5 pirulitos em cada um. Quantos saquinhos Vilma arrumará?

- (A) 21 saquinhos (D) 34 saquinhos  
(B) 45 saquinhos (E) 16 saquinhos  
(C) 20 saquinhos



9. Qual é a casa de Felipe?

A casa de Beto tem chaminé. A casa de Felipe fica à esquerda da casa de Beto e não é vizinha da casa C

- (A) Casa A  
(B) Casa B  
(C) Casa C  
(D) Casa D  
(E) Casa E



10. Observe o número e responda qual é o valor do numeral 3.

13 800

- (A) 300 (B) 3.000 (C) 3 (D) 30 (E) 30.000

As respostas só serão válidas, se os cálculos estiverem feitos ao lado da questão, ou no verso da folha. Numerados respectivamente, quando necessário.



Visite nossos sites

<https://sosprofessoratividades.com/>

<https://br.pinterest.com/betasobeta/sosprofessor-atividades/>

<https://www.facebook.com/sosprofessoratividades/>

<https://www.instagram.com/sosprofessoratividades/>

[https://www.youtube.com/channel/UCxN9wo1jE1txew9bzd\\_O58A?view\\_as=subscriber](https://www.youtube.com/channel/UCxN9wo1jE1txew9bzd_O58A?view_as=subscriber)



Produção SOSprofessor-atividades

Imagens da internet

SOS Professor  
Atividades

