

ESCOLA \_\_\_\_\_


NOME: \_\_\_\_\_ DATA: \_\_\_\_/\_\_\_\_/\_\_\_\_



## Entendendo melhor


a) Bento tem 12 lápis.

Podemos dizer que Bento tem **uma dúzia** de lápis.



b) Suelen tem 6 borrachas.

Podemos dizer que Suelen tem **meia dúzia** de borrachas.



1- Resolva:

a) Antes de ir à feira, dona Iara tinha 5 laranjas na fruteira. Depois das compras a fruteira ficou com 17 laranjas. Dona Iara comprou:

- (    ) 1 dezena de laranjas.
- (    ) 1 dúzia de laranjas.
- (    ) 1 dezena e meia de laranjas.

b) Telma tem 6 bonecas. Quantas bonecas faltam para ter 24?

- (    ) uma dúzia.    (    ) duas dúzias.    (    ) uma dúzia e meia.

c) Chegaram na livraria 5 dúzias e meia de livros para vender. Quantas unidades de livros chegaram na livraria?

- (    ) 60 livros    (    ) 66 livros    (    ) 72 livros




2- Calcule mentalmente e complete:

a) Preciso juntar ..... a 4 para ter 1 dúzia.  
b) Preciso juntar ..... a 14 para ter 1 dúzia e meia.  
c) Preciso juntar ..... a 8 para ter 2 dúzias.  
d) Preciso juntar ..... a 18 para ter 2 dúzias e meia.  
e) Preciso juntar ..... a 14 para ter 3 dúzias.

3- Pesquise e escreva o nome de cinco coisas que normalmente compramos por dúzia.

- a) \_\_\_\_\_
- b) \_\_\_\_\_
- c) \_\_\_\_\_
- d) \_\_\_\_\_
- e) \_\_\_\_\_

4- Complete a quantidade até formar uma dúzia.



ESCOLA \_\_\_\_\_


NOME: \_\_\_\_\_ DATA: \_\_\_\_/\_\_\_\_/\_\_\_\_



## Entendendo melhor


a) Bento tem 12 lápis.

Podemos dizer que Bento tem **uma dúzia** de lápis.



b) Suelen tem 6 borrachas.

Podemos dizer que Suelen tem **meia dúzia** de borrachas.



1- Resolva:

a) Antes de ir à feira, dona Iara tinha 5 laranjas na fruteira. Depois das compras a fruteira ficou com 17 laranjas. Dona Iara comprou:

- ( ) 1 dezena de laranjas.  
( **X** ) 1 dúzia de laranjas.  
( ) 1 dezena e meia de laranjas.

b) Telma tem 6 bonecas. Quantas bonecas faltam para ter 24?

- ( ) uma dúzia. ( ) duas dúzias. ( **X** ) uma dúzia e meia.

c) Chegaram na livraria 5 dúzias e meia de livros para vender. Quantas unidades de livros chegaram na livraria?

- ( ) 60 livros ( **X** ) 66 livros ( ) 72 livros



2- Calcule mentalmente e complete:

a) Preciso juntar ....8.... a 4 para ter 1 dúzia.

b) Preciso juntar ....4.... a 14 para ter 1 dúzia e meia.

c) Preciso juntar ....16.... a 8 para ter 2 dúzias.

d) Preciso juntar ....12.... a 18 para ter 2 dúzias e meia.


e) Preciso juntar ....22.... a 14 para ter 3 dúzias.

3- Pesquise e escreva o nome de cinco coisas que normalmente compramos por dúzia.

- a) Pessoal
- b) \_\_\_\_\_
- c) \_\_\_\_\_
- d) \_\_\_\_\_
- e) \_\_\_\_\_

4- Complete a quantidade até formar uma dúzia.

 6 flores

 9 carinhas



Visite nossos sites

<https://sosprofessoratividades.com/>

<https://br.pinterest.com/betasobeta/sosprofessor-atividades/>

<https://www.facebook.com/sosprofessoratividades/>

<https://www.instagram.com/sosprofessoratividades/>



[https://www.youtube.com/channel/UCxN9wo1jE1txew9bzd\\_O58A?vie\\_w as=subscriber](https://www.youtube.com/channel/UCxN9wo1jE1txew9bzd_O58A?vie_w as=subscriber)

Produção SOSprofessor-atividades

Clipart: Creative Clips

Imagens da internet

