

Visite nossas
redes sociais



SOS PROFESSOR
ATIVIDADES

por Betânia Arrimiano



<https://sosprofessoratividades.com>



<https://br.pinterest.com/betasobeta/sosprofessoratividades/>



<https://www.facebook.com/sosprofessoratividades/>



<https://www.instagram.com/sosprofessoratividades/>



https://www.youtube.com/channel/UCxN9wo1jE1txew9bzdO58A?view_as=subscriber

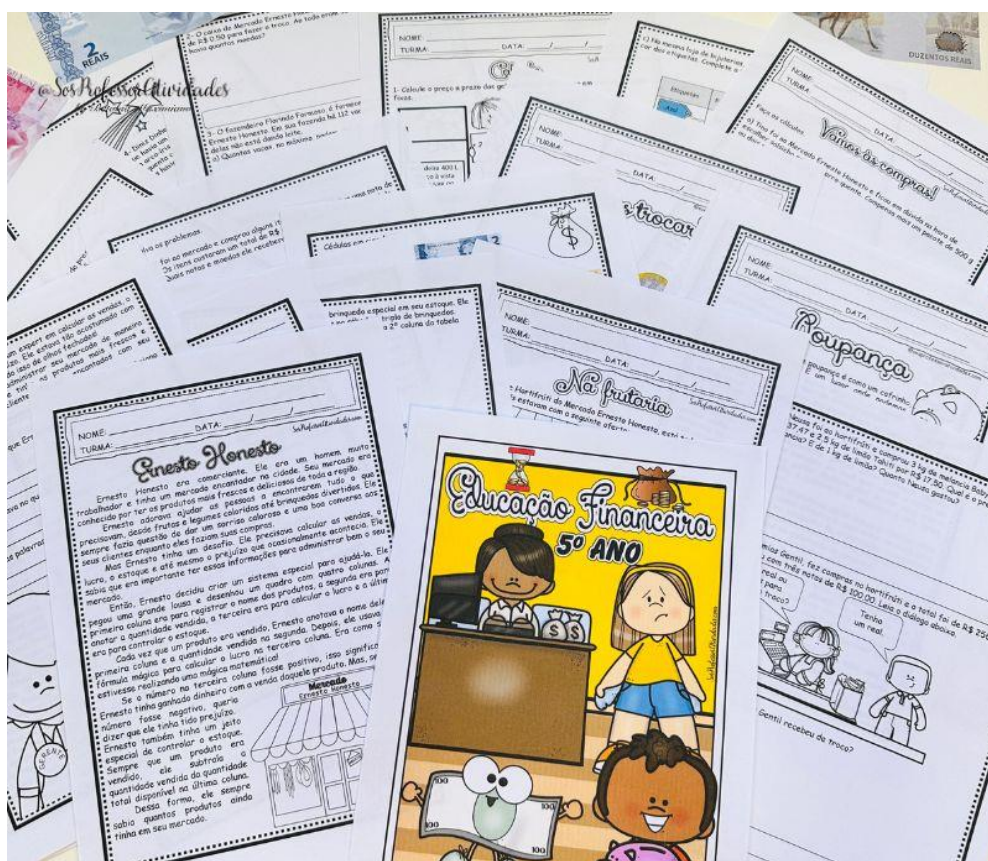

Produção: sosprofessoratividades.com

Todos os direitos reservados ao sosprofessoratividades.com. É proibido distribuir, reproduzir ou vender este material por qualquer meio, seja eletronicamente ou impresso, bem como reivindicá-lo como seu e tentar modificar ou remover avisos de direitos autorais, logotipos ou marcas d'água, uma vez que é protegido por direitos autorais. O não cumprimento é uma violação da Lei de Direitos Autorais e pode ter consequências legais. Lei dos direitos autorais, nº 9.610/98

Cliparts que utilizo:



Quer mais atividades? Clique nas imagens abaixo.



NOME: _____

TURMA: _____

DATA: ____/____/____



IDEIA DE QUANTAS VEZES CABE


Mônica tem 60 balinhas para colocar em saquinhos de plástico. Em cada saquinho cabem 6 balinhas. Quantos saquinhos Mônica utilizará para embalar as 60 balinhas?

$$60 \div 6 = 10$$

Mônica utilizará 10 saquinhos.



1- Ricardo está na fila para pegar uma Van até a rodoviária. Ele é o 21º da fila. A Van em todas as viagens, leva a capacidade máxima de 7 pessoas. Quantas viagens Ricardo terá que esperar na fila para utilizar a Van?



2- Responda:

- a) Quantas vezes o número 6 cabe no 30? _____
- b) Quantas vezes o número 5 cabe no 50? _____
- c) Quantas vezes o número 9 cabe no 81? _____
- d) Quantas vezes o número 3 cabe no 12? _____
- e) Quantas vezes o número 7 cabe no 56? _____