

Visite nossas  
redes sociais



SOS PROFESSOR  
ATIVIDADES

por Betânia Arrimiano



<https://sosprofessoratividades.com>



<https://br.pinterest.com/betasobeta/sosprofessoratividades/>



<https://www.facebook.com/sosprofessoratividades/>



<https://www.instagram.com/sosprofessoratividades/>



[https://www.youtube.com/channel/UCxN9wo1jE1txew9bzdO58A?view\\_as=subscriber](https://www.youtube.com/channel/UCxN9wo1jE1txew9bzdO58A?view_as=subscriber)

Produção: [sosprofessoratividades.com](https://sosprofessoratividades.com)

Todos os direitos reservados ao [sosprofessoratividades.com](https://sosprofessoratividades.com). É proibido distribuir, reproduzir ou vender este material por qualquer meio, seja eletronicamente ou impresso, bem como reivindicá-lo como seu e tentar modificar ou remover avisos de direitos autorais, logotipos ou marcas d'água, uma vez que é protegido por direitos autorais. O não cumprimento é uma violação da Lei de Direitos Autorais e pode ter consequências legais. Lei dos direitos autorais, nº 9.610/98

Cliparts que utilizo:



# Quer mais atividades?

## Clique nas imagens abaixo.

NOME: \_\_\_\_\_ TURMA: \_\_\_\_\_ DATA: \_\_\_\_\_

### RECURSOS NATURAIS

Dizemos que são recursos naturais tudo aquilo que é necessário ao homem e que podemos encontrar e retirar da natureza, eles fazem parte da formação dos lugares sem a intervenção do homem e é através desses recursos que se torna possível a vida na Terra. Entre os principais recursos naturais que existem temos: o ar, o solo, a luz e o calor do sol, a água, as florestas, os animais e muitos outros. É possível dividir os recursos naturais em dois grupos diferentes: o dos recursos naturais renováveis e o dos recursos naturais não renováveis.

1- Escreva se os recursos naturais abaixo são: renováveis ou não renováveis:

\_\_\_\_\_

\_\_\_\_\_

\_\_\_\_\_

\_\_\_\_\_

\_\_\_\_\_

\_\_\_\_\_

\_\_\_\_\_

\_\_\_\_\_

# RECURSOS NATURAIS

2- Complete a tabela marcando com X na origem dos recursos naturais.

Recursos naturais	Origem			
	Mineral	Vegetal	Animal	Hídrica
ouro				
água				
florestas				
peixes				
gás natural				
sal marinho				

Um seringueiro extraído o látex.

o significado \_\_\_\_\_

NOME: \_\_\_\_\_ TURMA: \_\_\_\_\_ DATA: \_\_\_\_\_

### BRASIL - DIVISÃO POLÍTICA

Você sabe o nome oficial do Brasil?  
É República Federativa do Brasil.

O Brasil é um país muito extenso, possui 8.547.404 quilômetros quadrados de área. É por meio do Censo 2022 que saberemos quantos somos, como somos e de que forma vivemos nas áreas urbanas e rurais do país, indica o IBGE. A estimativa do instituto é de que a população brasileira seja em torno de 215 milhões de habitantes.

Nosso país tem 27 Unidades da Federação que são: 26 estados e Distrito Federal. No Distrito Federal está Brasília, a capital do Brasil sede do governo brasileiro.

Para facilitar a administração do Brasil, ele foi dividido em cinco regiões:

- Região Norte

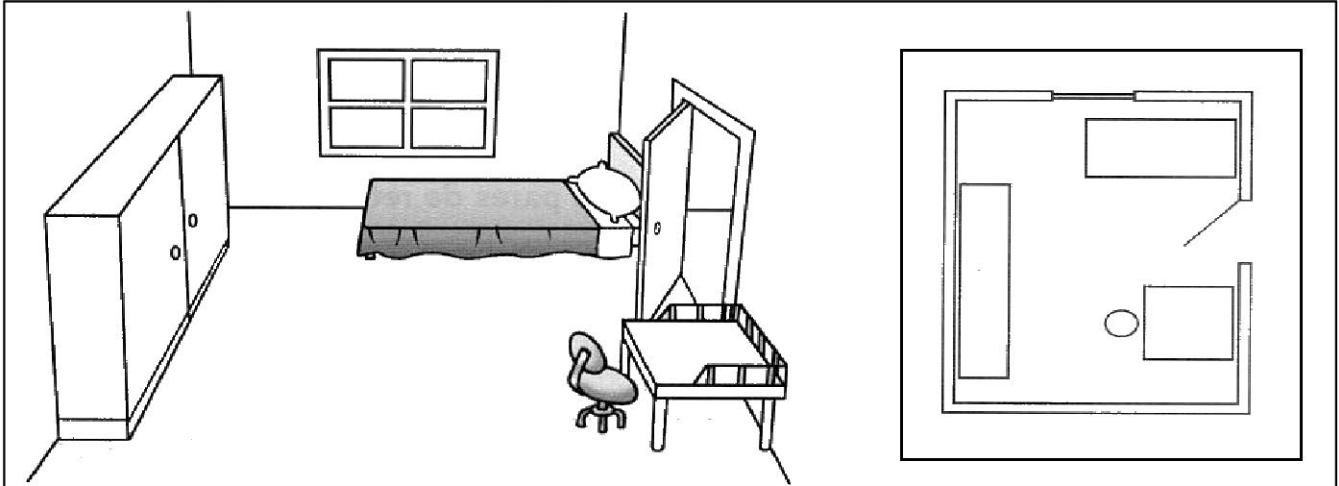
Estados	Síglas	Capitais
Acre	AC	Rio Branco
Alagoas	AL	Maceió
Amazônia	AP	Macapá
Amazônia	AM	Mãe Deus
Pará	PA	Belém
Roraima	RO	Porto Velho
Roraima	RR	Boa Vista
Tocantins	TO	Palmas

NOME: \_\_\_\_\_  
TURMA: \_\_\_\_\_ DATA: \_\_\_\_/\_\_\_\_/\_\_\_\_  
*SosProfessorAtividades.com*



## PLANTA BAIXA

Observe a planta baixa de um quarto.



Elementos que foram representados na planta baixa	Formas geométricas utilizadas para a representação
Quarto	Retangular
Cama	Retangular
Mesa	Quadrada
Cadeira	Círculo
Guarda-roupa	Retangular

1- Observando o desenho e a planta baixa, responda.

a) Qual é a posição da cama em relação à janela?

\_\_\_\_\_

b) Qual é a posição do guarda-roupa em relação à porta?

\_\_\_\_\_


c) Qual é a posição da mesa em relação à porta?

\_\_\_\_\_

d) Qual é a posição da cadeira em relação à mesa?

\_\_\_\_\_


2- Veja o quarto do Pedro e a planta feita por ele.



a) A planta feita por Pedro corresponde ao quarto dele?

---

3- Observe este outro quarto e responda:



a) A planta baixa desse quarto terá que forma?

---

b) No quarto, há portas e janelas? Onde elas se localizam?

---

c) Para representar esse quarto em planta baixa, que formas geométricas você utilizaria?

---

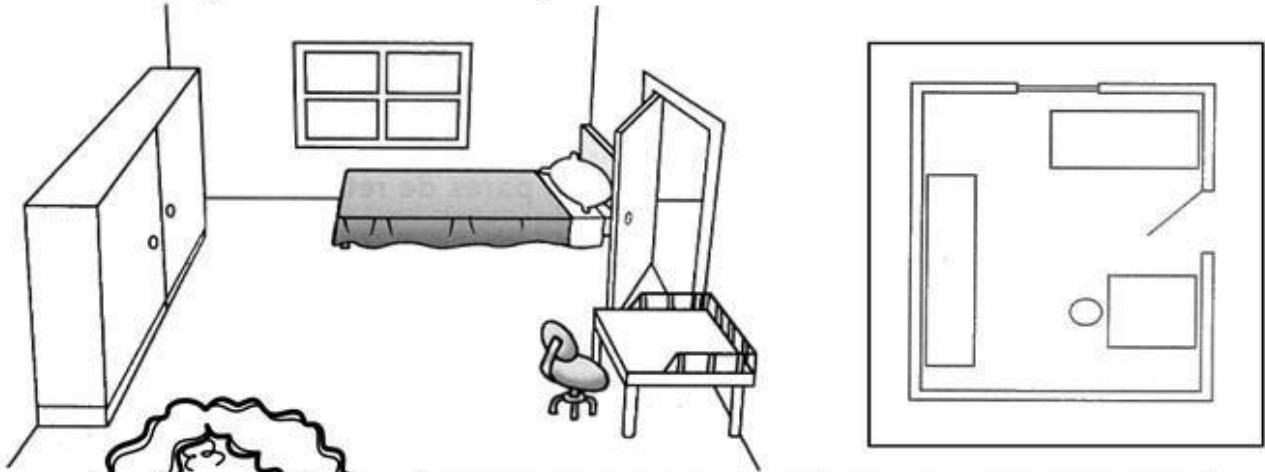
ESCOLA \_\_\_\_\_

NOME: \_\_\_\_\_ DATA: \_\_\_\_/\_\_\_\_/\_\_\_\_



## PLANTA BAIXA

Observe a planta baixa de um quarto.



Elementos que foram representados na planta baixa	Formas geométricas utilizadas para a representação
Quarto	Retangular
Cama	Retangular
Mesa	Quadrada
Cadeira	Círculo
Guarda-roupa	Retangular

1- Observando o desenho e a planta baixa, responda.

a) Qual é a posição da cama em relação à janela?

A cama está ao lado da janela

b) Qual é a posição do guarda-roupa em relação à porta?

O guarda-roupa está em frente da porta.

c) Qual é a posição da mesa em relação à porta?


A mesa está à direita da porta.

d) Qual é a posição da cadeira em relação à mesa?

Está em frente.




2- Veja o quarto do Pedro e a planta feita por ele.



a) A planta feita por Pedro corresponde ao quarto dele?

**Não, porque a janela está no local errado.**

3- Observe este outro quarto e responda:



a) A planta baixa desse quarto terá que forma?

**Retangular.**

b) No quarto, há portas e janelas? Onde elas se localizam?

**Sim, a porta está à direita da cama e a janela em frente a cama.**

c) Para representar esse quarto em planta baixa, que formas geométricas você utilizaria?

**Retângular e circular.**

