

NOME: _____

TURMA: _____ DATA: ____/____/____



Comparando números



1- Compare os números usando os sinais $>$ ou $<$.

a) 372 849 d) 102 120

b) 935 938 e) 436 586

c) 382 388 f) 772 727



2- Escreva a sequência de números em ordem crescente usando corretamente o $<$.

a) 152 - 251 - 215 - 512 - 521

3- Escreva a sequência de números em ordem decrescente usando o sinal $>$.

a) 784 - 478 - 847 - 748 - 784

4- Dona Ana faz doces caseiros. Ela organiza os potes numerados em prateleiras. Não dá para ver os números de alguns potes. Só se sabe que a numeração é em ordem crescente e que, em uma prateleira, estão os números pares e, em outra, os ímpares. Complete a numeração dos potes.



Escreva os números dos potes:

a) Par: _____

b) Ímpar: _____



ESCOLA _____

NOME: _____ DATA: ____ / ____ / ____



Comparando números



1- Compare os números usando os sinais $>$ ou $<$.

a) $372 < 849$ d) $102 < 120$

b) $935 < 938$ e) $436 < 586$

c) $382 < 388$ f) $772 > 727$

2- Escreva a sequência de números em ordem crescente usando corretamente o $<$.

a) $152 - 251 - 215 - 512 - 521$



$152 < 215 < 251 < 512 < 521$

3- Escreva a sequência de números em ordem decrescente usando o sinal $>$.

a) $784 - 478 - 847 - 748 - 487$

$847 > 784 > 748 > 487 > 478$

4- Dona Ana faz doces caseiros. Ela organiza os potes numerados em prateleiras. Não dá para ver os números de alguns potes. Só se sabe que a numeração é em ordem crescente e que, em uma prateleira, estão os números pares e, em outra, os ímpares. Complete a numeração dos potes.



Escreva os números dos potes:

a) Par: $58, 60, 62, 64, 66, 68, 70, 72, 74, 76, 78$.

b) Ímpar: $59, 61, 63, 65, 67, 69, 71, 73, 75, 77, 79$.



Visite nossas
redes sociais



<https://sosprofessoratividades.com>



<https://br.pinterest.com/betasobeta/sosprofessoratividades/>



<https://www.facebook.com/sosprofessoratividades/>



<https://www.instagram.com/sosprofessoratividades/>



https://www.youtube.com/channel/UCxN9wo1jE1txew9bzdO58A?view_as=subscriber

Produção: sosprofessoratividades.com

Este material é totalmente gratuito e elaborado por [@sosprofessoratividades.com](https://sosprofessoratividades.com). Todas as atividades do blog/site são protegidas pela lei dos direitos autorais, nº 9.610/98 - proibido a venda, cópias para outros sites, blogs ou redes sociais.

Direito de imagens

