

NOME: \_\_\_\_\_

TURMA: \_\_\_\_\_

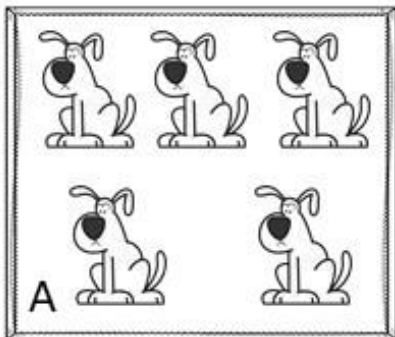
DATA: \_\_\_\_/\_\_\_\_/\_\_\_\_

SOS Professor  
Atividades

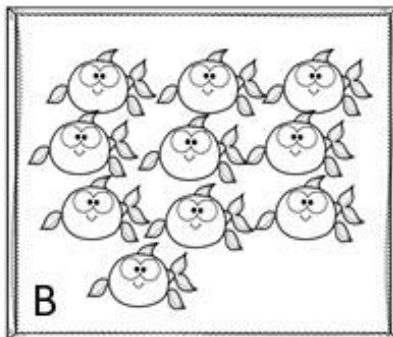


## MOSTRE O QUE VOCÊ SABE...


1- Escreva a quantidade de animais de cada quadro e responda:



A



B



C

- Em qual quadro há 1 dezena de animais? \_\_\_\_\_
- Onde tem meia dúzia de animais? \_\_\_\_\_
- Qual quadro tem meia dezena de animais? \_\_\_\_\_

2- Complete com ● ou número e responda:



2



1



6



10

- Quais desses números são pares? \_\_\_\_\_
- Quais são ímpares? \_\_\_\_\_
- Coloque os números dos balões em ordem **decrecente**.  
\_\_\_\_\_

d) Qual o maior número possível formado com os algarismos 2, 1 e 6 sem repetir? \_\_\_\_\_ E o menor? \_\_\_\_\_



@sosprofessoratividades.com

3- Complete a sequência numérica.

a) 

210	211	212			
-----	-----	-----	--	--	--

e) 

613	618				
-----	-----	--	--	--	--

b) 

296	297	298			
-----	-----	-----	--	--	--

f) 

777		770			
-----	--	-----	--	--	--

c) 

342	340				
-----	-----	--	--	--	--

g) 

999					
-----	--	--	--	--	--

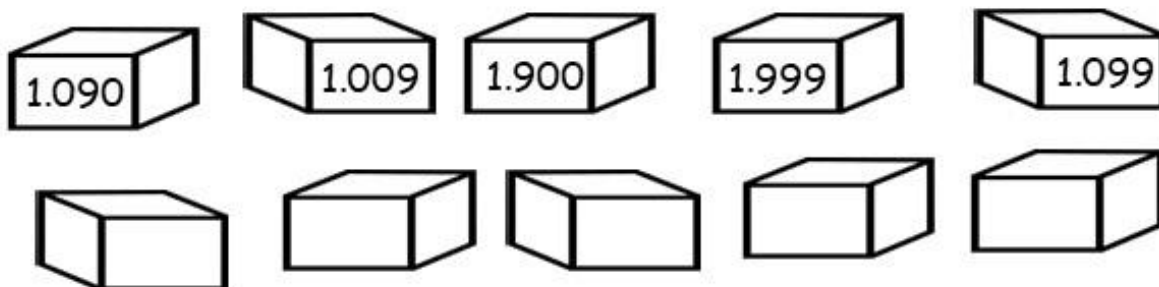
d) 

497		499			
-----	--	-----	--	--	--

h) 

938			932		
-----	--	--	-----	--	--

4- As caixas estão misturadas. Arrume-as de modo que os números fiquem em ordem **crescente**.



5- Os versos que seguem são da música **Vida de cachorro**, da Rita Lee. Leia com atenção.

### Vida de cachorro

Vamos embora companheiro

Vamos

Eles estão por fora do que eu sinto por você

Me dê sua pata peluda, vamos passear

Sentindo o cheiro da rua

Me lamba o rosto, meu querido, lamba

E diga que você também me ama

Eu quero ver seu rabo abanando

Vamos ficar sem coleiras

Vamos ter cinco lindos cachorrinhos

Até que a morte nos separe, meu amor.



Rita Lee, Arnaldo Batista e Sérgio D. Baptista.

a) Nesses versos, há uma palavra de 5 letras que aparecem 5 vezes.

Qual é a palavra? \_\_\_\_\_



6- Complete a tabela.

891									900
								910	
							920		
						930			
					940				
				950					
			960						
		970							
	980								
990									1000

Pinte:

- a) de azul os números que têm algarismo 5 na dezena;
- b) de amarelo os números que têm o algarismo 7 na unidade;
- c) de vermelho os números que têm o algarismo 8 na centena.

7- Complete o quadro abaixo.



Número	Decomposição	Escrita
	$200 + 90 + 3$	
506		
		Setecentos e treze
2.507		
	$1.000 + 20 + 1$	

Visite nossos sites

 <https://sosprofessoratividades.com>

 <https://br.pinterest.com/betasobeta/sosprofessoratividades/>

 <https://www.facebook.com/sosprofessoratividades/>

 <https://www.instagram.com/sosprofessoratividades/>

[https://www.youtube.com/channel/UCxN9wo1jE1txew9bzd\\_O58A?view\\_as=subscriber](https://www.youtube.com/channel/UCxN9wo1jE1txew9bzd_O58A?view_as=subscriber)



Produção: sosprofessoratividades.com

Cliparts:

