



NOME: _____


TURMA: _____ DATA: ____/____/____

@sosprofessoratividades.com

NÚMEROS ROMANOS

1- Usando os símbolos romanos, escreva os números correspondentes:

- | | |
|-------------|-------------|
| a) 16 | f) 63 |
| b) 27 | g) 75 |
| c) 32 | h) 86 |
| d) 41 | i) 92 |
| e) 54 | j) 19 |




2- Usando algarismos, escreva os seguintes números:

- | | | |
|------------------|------------------|-----------------|
| a) XIV = | b) XXIII = | c) XXXI = |
| d) XLVII = | e) LXI = | f) CCXX = |


3- Usando algarismos romanos, escreva os seguintes números:

- | | |
|----------------|----------------|
| a) 132 = | b) 257 = |
| d) 425 = | e) 534 = |
| g) 725 = | h) 891 = |
| j) 435 = | c) 372 = |
| f) 680 = | i) 960 = |



4- Usando algarismos romanos, vamos escrever os números abaixo:

- | | |
|------------------|------------------|
| a) 1.300 = | e) 1.452 = |
| b) 1.280 = | f) 2.650 = |
| c) 1.535 = | g) 2.815 = |
| d) 1.981 = | h) 1.096 = |



5- Usando algarismos, escreva os números correspondentes a:

- a) CLVII =
- b) CCXXXII =
- c) CDLXI =
- d) DXC =

- e) DCCCXXIX =
- f) CMLXXIII =
- g) MD =
- h) MCXXV =

6- Complete o quadro com números romanos até 50.



I				
	VII			
				XV
	XVII			
XXI				
		XXVIII		
			XXXIV	
				XL
	XLII			
				L



NOME: _____

TURMA: _____ DATA: ____/____/____

@sosprofessoratividades.com



NÚMEROS ROMANOS

1- Usando os símbolos romanos, escreva os números correspondentes:

a) 16 XVI

f) 63 LXIII

b) 27 XXVII

g) 75 LXXV

c) 32 XXXII


h) 86 LXXXVI

d) 41 XLI

i) 92 XCII

e) 54 LIV

j) 19 IXX



2- Usando algarismos, escreva os seguintes números:

a) XIV = 14 b) XXIII = 23 c) XXXI = 31

d) XLVII = 47 e) LXI = 61 f) CCXX = 220

3- Usando algarismos romanos, escreva os seguintes números:

a) 132 = CXXXII

b) 257 = CCLVII

d) 425 = CDXXV

e) 534 = DXXXIV

g) 725 = DCCXXV


h) 891 = DCCCXCI

j) 435 = CDXXXV

c) 372 = CCCLXXII

f) 680 = DCLXXX

i) 960 = CMLX



4- Usando algarismos romanos, vamos escrever os números abaixo:

a) 1.300 = MCCC

e) 1.452 = MCDLII

b) 1.280 = MCCLXXX


f) 2.650 = MMDCL

c) 1.535 = MDXXXV

g) 2.815 = MMDCCCXV

d) 1.981 = MCMLXXXI

h) 1.096 = MXCVI



5- Usando algarismos, escreva os números correspondentes a:

a) CLVII = **157**.....

e) DCCCXXIX = **829**.....

b) CCXXXII = **232**.....

f) CMLXXIII = **973**.....

c) CDLXI = **461**.....

g) MD = **1.500**.....

d) DXC = **590**.....

h) MCXXV = **1.125**.....

6- Complete o quadro com números romanos até 50.



I	II	III	IV	V
VI	VII	VIII	IX	X
XI	XII	XIII	XIV	XV
XVI	XVII	XVIII	IXX	XX
XXI	XXII	XXIII	XIV	XXV
XXVI	XVII	XXVIII	XXIX	XXX
XXXI	XXXII	XXXIII	XXXIV	XXXV
XXXVI	XXXVII	XXXVIII	XXXIX	XL
XLI	XLII	XLIII	XLIV	XLV
XLVI	XLVII	XLVIII	XLIX	L



Visite nossos sites

 <https://sosprofessoratividades.com>

 <https://br.pinterest.com/betasobeta/sosprofessoratividades/>

 <https://www.facebook.com/sosprofessoratividades/>

 <https://www.instagram.com/sosprofessoratividades/>

https://www.youtube.com/channel/UCxN9wo1jE1txew9bzd_O58A?view_as=subscriber



Produção: sosprofessoratividades.com

Este material é totalmente gratuito e elaborado por @sosprofessoratividades.com. Todas as atividades do blog/site são protegidas pela lei dos direitos autorais, nº 9.610/98 - proibido cópias para outros sites, blogs ou redes sociais.

Clipat: Clipartof.com

