
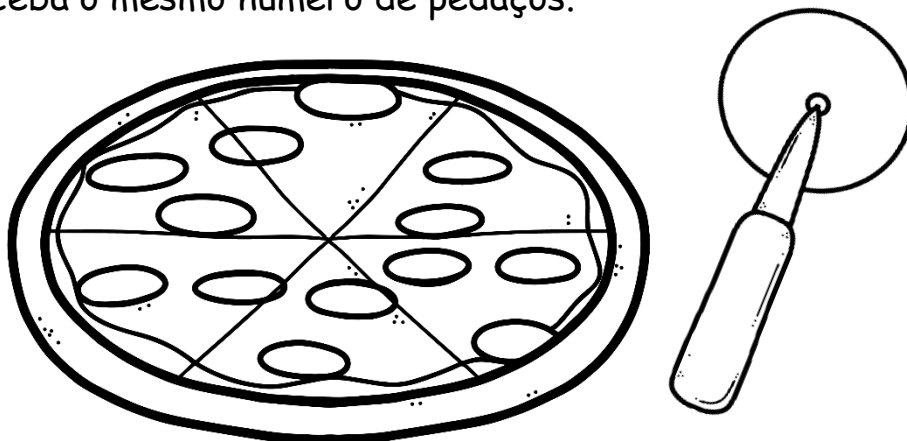


## Parte 1



•Papai convidou alguns amigos para um bate-papo e encomendou uma pizza. Antes dos amigos chegarem, ele quer dividir a pizza, de modo que cada pessoa receba o mesmo número de pedaços.



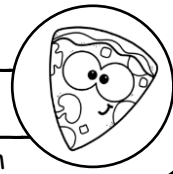
*SosProfessorAtividades.com*

Cola

•Em quantas partes ele deve dividir a pizza, se o total de pessoas pode ser 3 ou 4?


b) Quantos pedaços receberá cada pessoa?

NOME: \_\_\_\_\_  
TURMA: \_\_\_\_\_ DATA: \_\_\_\_/\_\_\_\_/\_\_\_\_  
@sosprofessoratividades.com




Parte 2

# Pizza do papai

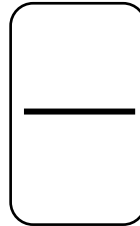


Finalmente os 4 amigos do papai chegaram!!  
Só que cada um comeu uma quantidade diferente de pizza.  
Veja quanto cada um comeu, represente na forma fracionária e escreva por extenso.

a) Marcos comeu 2 pedaços de pizza.



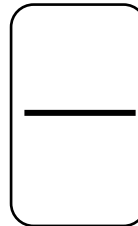
Ele comeu




\_\_\_\_\_

b) Pedro comeu 4 pedaços de pizza.

Ele comeu

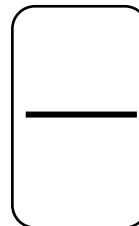


\_\_\_\_\_




c) Ugo comeu 3 pedaços da pizza.

Ele comeu

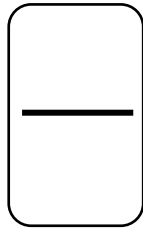


\_\_\_\_\_




d) José comeu somente 1 pedaço de pizza.

Ele comeu

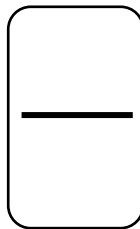


\_\_\_\_\_




e) Papai não resistiu e come os pedaços que sobraram da pizza.

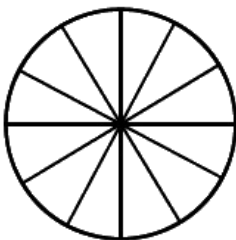
Ele comeu



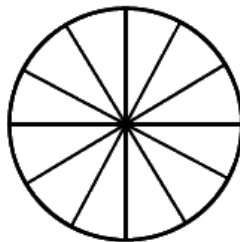
\_\_\_\_\_



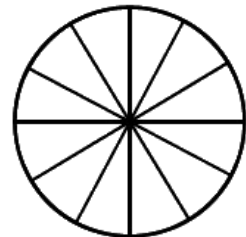
2- Agora, pinte as frações correspondentes a papai e seus amigos.



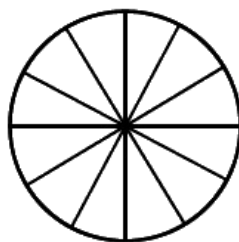
Papai



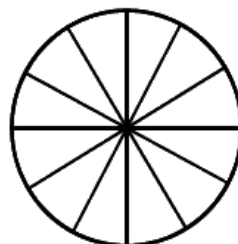
Ugo



Marcos




Pedro


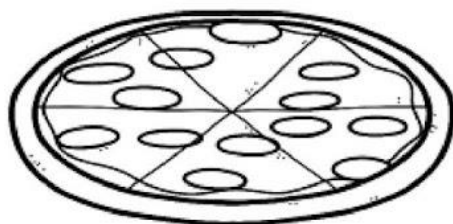


José

## Parte 1



- 1 Papai convidou alguns amigos para um bate-papo e encomendou uma pizza. Antes dos amigos chegarem, ele quer dividir a pizza, de modo que cada pessoa receba o mesmo número de pedaços.



Cola

- a) Em quantas partes ele deve dividir a pizza, se o total de pessoas pode ser 3 ou 4?

Deve dividir a pizza em 12 pedaços.

- b) Quantos pedaços receberá cada pessoa?

$12 : 3 = 4$  ou  $12 : 4 = 3$   
Se forem 3 pessoas, cada uma receberá 4 pedaços; se forem 4 pessoas, cada uma receberá 3 pedaços.


ESCOLA \_\_\_\_\_

NOME: \_\_\_\_\_ DATA: \_\_\_\_/\_\_\_\_/\_\_\_\_



## Parte 2


# Pizza do papai



Finalmente os 4 amigos do papai chegaram!!

Só que cada um comeu uma quantidade diferente de pizza.

Veja quanto cada um comeu, represente na forma fracionária e escreva por extenso.



a) Marcos comeu 2 pedaços de pizza.

Ele comeu

$$\frac{2}{12}$$


Dois doze avos

b) Pedro comeu 4 pedaços de pizza.

Ele comeu

$$\frac{4}{12}$$

Quatro doze avos.



c) Ugo comeu 3 pedaços da pizza.

Ele comeu

$$\frac{3}{12}$$

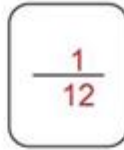
Três doze avos.





d) José comeu somente 1 pedaço de pizza.

Ele comeu

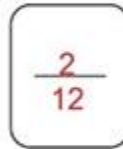


Um doze avos.



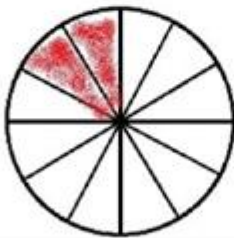
e) Papai não resistiu e comeu os pedaços que sobraram da pizza.

Ele comeu



Dois doze avos

2- Agora, pinte as frações correspondentes a papai e seus amigos.



Papai



Ugo



Marcos



Pedro



José

Visite nossas  
redes sociais



SOS PROFESSOR  
ATIVIDADES

por Betânia Arrimiano



<https://sosprofessoratividades.com>



<https://br.pinterest.com/betasobeta/sosprofessoratividades/>



<https://www.facebook.com/sosprofessoratividades/>



<https://www.instagram.com/sosprofessoratividades/>



[https://www.youtube.com/channel/UCxN9wo1jE1txew9bzdO58A?view\\_as=subscriber](https://www.youtube.com/channel/UCxN9wo1jE1txew9bzdO58A?view_as=subscriber)

Produção: [sosprofessoratividades.com](https://sosprofessoratividades.com)

Todos os direitos reservados ao [sosprofessoratividades.com](https://sosprofessoratividades.com). É proibido distribuir, reproduzir ou vender este material por qualquer meio, seja eletronicamente ou impresso, bem como reivindicá-lo como seu e tentar modificar ou remover avisos de direitos autorais, logotipos ou marcas d'água, uma vez que é protegido por direitos autorais. O não cumprimento é uma violação da Lei de Direitos Autorais e pode ter consequências legais. Lei dos direitos autorais, nº 9.610/98

Cliparts que utilizo:

