



NOME: _____

TURMA: _____ DATA: ____/____/____



@sosprofessoratividades.com

VOGÊ É BOM DE CÁLCULOS?


1- Complete as tabelas utilizando a calculadora.



TECLAS DIGITADAS	NÚMERO NO VISOR
ON	
3 x 1 0 =	
+ 5 0 =	
÷ 2 =	
- 1 7 =	
+ 6 =	

TECLAS DIGITADAS	NÚMERO NO VISOR
ON	
2 0 4 x 3 7 =	
□ 1 2 =	629
+ 5 0 0 =	
- □ □ □ =	829
□ □ =	830

TECLAS DIGITADAS	NÚMERO NO VISOR
ON	
1 4 + 6 0 =	
□ □ □ =	50
□ □ □ =	5
□ □ □ □ =	125
□ □ □ =	25





2- A professora Leka estava organizando uns probleminhas para a turma resolver, só que ela misturou os papéis e ficou uma bagunça.



- Numere os problemas na sequência correta,
- copie e depois resolva.

1º problema

- () Nesse setor existem 7 fileiras.
- () Quantas cadeiras há ao todo?
- () Pedro vai ao estádio com o pai assistir ao jogo do seu time.
- () Há 125 cadeiras em cada fila do setor de "numeradas" do estádio.
- () Ele está muito animado.

2º problema

- () Vai sobrar aluno?
- () Leka quer formar equipes de 6 alunos cada uma.
- () Ela quer brincar no pátio com os alunos.
- () Quantas equipes ela poderá formar?
- () A classe da professora Leka tem 32 alunos.



NOME: _____

TURMA: _____ DATA: ____/____/____



@sosprofessoratividades.com

VOÇÊ É BOM DE CÁLCULOS?


1- Complete as tabelas utilizando a calculadora.




TECLAS DIGITADAS	NÚMERO NO VISOR
ON	
3 x 1 0 =	30
+ 5 0 =	80
÷ 2 =	40
- 1 7 =	23
+ 6 =	29

TECLAS DIGITADAS	NÚMERO NO VISOR
ON	
2 0 4 x 3 7 =	7.548
÷ 1 2 =	629
+ 5 0 0 =	1.129
- 3 0 0 =	829
+ 1 =	830

TECLAS DIGITADAS	NÚMERO NO VISOR
ON	
1 4 + 6 0 =	74
- 2 4 =	50
÷ 1 0 =	5
+ 1 2 0 =	125
÷ 5 =	25



2- A professora Leka estava organizando uns probleminhas para a turma resolver, só que ela misturou os papéis e ficou uma bagunça.



- Numere os problemas na sequência correta,
- copie e depois resolva.

1º problema

- (4) Nesse setor existem 7 fileiras.
- (5) Quantas cadeiras há ao todo?
- (1) Pedro vai ao estádio com o pai assistir ao jogo do seu time.
- (3) Há 125 cadeiras em cada fila do setor de "numeradas" do estádio.
- (2) Ele está muito animado.

$$7 \times 125 = 875$$

2º problema

- (5) Vai sobrar aluno?
- (3) Leka quer formar equipes de 6 alunos cada uma.
- (2) Ela quer brincar no pátio com os alunos.
- (4) Quantas equipes ela poderá formar?
- (1) A classe da professora Leka tem 32 alunos.

$$32 \div 6 = 5$$

Sobram 2 alunos.



Visite nossas
redes sociais

SOS Professor

Atividades

Betânia Maximiano



<https://sosprofessoratividades.com>



<https://br.pinterest.com/betasobeta/sosprofessoratividades/>



<https://www.facebook.com/sosprofessoratividades/>



<https://www.instagram.com/sosprofessoratividades/>

https://www.youtube.com/channel/UCxN9wo1jE1txew9bzdO58A?view_as=subscriber

Produção: sosprofessoratividades.com



Todos os direitos reservados ao sosprofessoratividades.com. É proibido distribuir, reproduzir ou vender este material por qualquer meio, seja eletronicamente ou impresso, bem como reivindicá-lo como seu e tentar modificar ou remover avisos de direitos autorais, logotipos ou marcas d'água, uma vez que é protegido por direitos autorais. O não cumprimento é uma violação da Lei de Direitos Autorais e pode ter consequências legais. Lei dos direitos autorais, nº 9.610/98

Cliparts que utilizo:

