

NOME: _____

TURMA: _____ DATA: ____/____/____

@sosprofessoratividades.com




Trocando os números

Observe o número

519

e faça o que se pede:



a) Quantas unidades serão aumentadas se trocarmos o algarismo 1 por 6 ?

b) E se trocarmos o algarismo 5 por 7?


c) O que aumentará mais unidades no número 519: introduzir o 3 entre o algarismo 1 e 9 ou introduzir o algarismo 0 após o 9?

d) Se introduzirmos o algarismo 0 (zero) entre o 1 e o 9, o valor do algarismo 1 no número ficará alterado? Quanto o algarismo 1 passará a valer?

e) Escreva todos os números de três algarismos que podem ser formados com 5, 1, 9.



@sosprofessoratividades.com



Vamos agora
trabalhar com
Valor Posicional.

2- Observe os números em destaque e
escreva o valor absoluto e o valor relativo
dos algarismos indicados.

a) 952	Valor absoluto	Valor relativo
Dezena		
Unidade		
Centena		


c) 423	Valor absoluto	Valor relativo
Centena		
Unidade		
Dezena		

b) 576	Valor absoluto	Valor relativo
Unidade		
Dezena		
Centena		

d) 781	Valor absoluto	Valor relativo
Unidade		
Centena		
Dezena		

3- Escreva os números acima por extenso.

- a) _____
b) _____
c) _____
d) _____



NOME: _____

TURMA: _____ DATA: ____/____/____

@sosprofessoratividades.com



Trocando os números

Observe o número

519

e faça o que se pede:

a) Quantas unidades serão aumentadas se trocarmos o algarismo 1 por 6 ?

50 unidades

b) E se trocarmos o algarismo 5 por 7?

200 unidades

c) O que aumentará mais unidades no número 519: introduzir o 3 entre o algarismo 1 e 9 ou introduzir o algarismo 0 após o 9?


Introduzir o algarismo 0 ao final.

d) Se introduzirmos o algarismo 0 (zero) entre o 1 e o 9, o valor do algarismo 1 no número ficará alterado? Quanto o algarismo 1 passará a valer?


Sim, passará a valer 100

e) Escreva todos os números de três algarismos que podem ser formados com 5, 1, 9.

519, 591, 159, 195, 915, 951.



@sosprofessoratividades.com



Vamos agora trabalhar com Valor Posicional.

2- Observe os números em destaque e escreva o valor absoluto e o valor relativo dos algarismos indicados.

a) 952	Valor absoluto	Valor relativo
Dezena	5	50
Unidade	2	2
Centena	9	900

c) 423	Valor absoluto	Valor relativo
Centena	4	400
Unidade	3	3
Dezena	2	20

b) 576	Valor absoluto	Valor relativo
Unidade	6	6
Dezena	7	70
Centena	5	500

d) 781	Valor absoluto	Valor relativo
Unidade	1	1
Centena	7	700
Dezena	8	80


3- Escreva os números acima por extenso.

a) Novecentos e cinquenta e dois

b) Quinhentos e setenta e seis

c) Quatrocentos e vinte e três

d) Setecentos e oitenta e um



Visite nossas
redes sociais



<https://sosprofessoratividades.com>



<https://br.pinterest.com/betasobeta/sosprofessoratividades/>



<https://www.facebook.com/sosprofessoratividades/>



<https://www.instagram.com/sosprofessoratividades/>



https://www.youtube.com/channel/UCxN9wo1jE1txew9bzd_O58A?view_as=subscriber

Produção: sosprofessoratividades.com

Este material é totalmente gratuito e elaborado por [@sosprofessoratividades.com](https://sosprofessoratividades.com). Todas as atividades do blog/site são protegidas pela lei dos direitos autorais, nº 9.610/98 - proibido a venda, cópias para outros sites, blogs ou redes sociais.

Direito de imagem

