

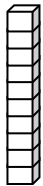
NOME: _____



TURMA: _____ DATA: ____/____/____

Material Dourado

1- Escreva o número representado pelo material dourado.
Lembre-se:



= 10 unidades



= 1 unidade

Two 10-unit bars and three 1-unit cubes.

Four 10-unit bars, six 1-unit cubes, and one 1-unit cube.

Eight 10-unit bars, four 1-unit cubes, and two 1-unit cubes.

Three 10-unit bars, two 1-unit cubes, and two 1-unit cubes.

Four 10-unit bars and two 1-unit cubes.

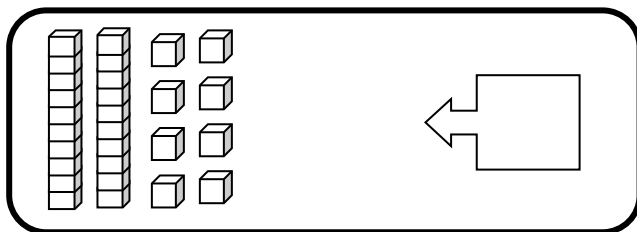
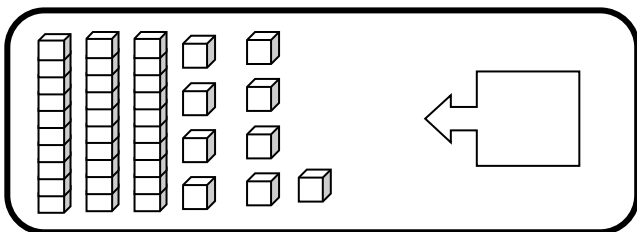
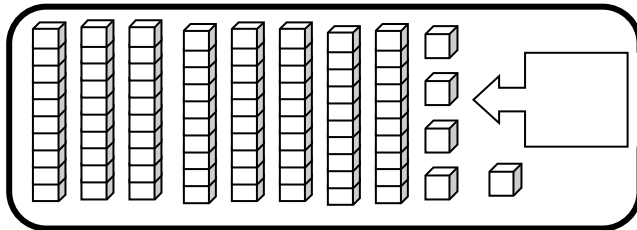
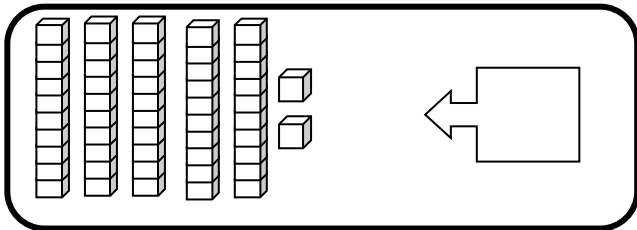
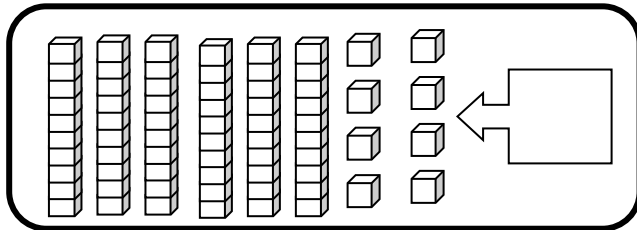
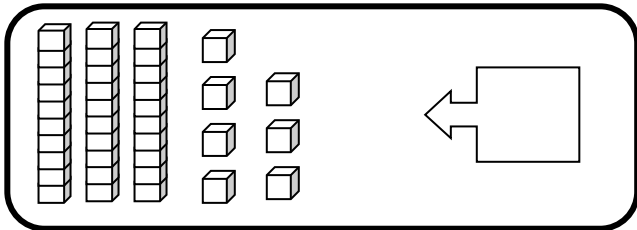
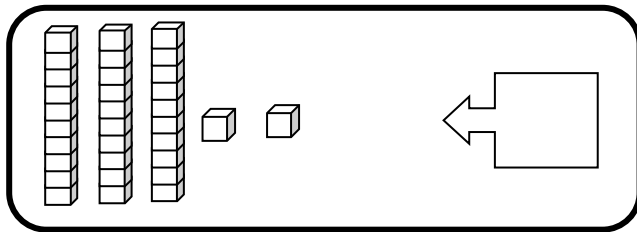
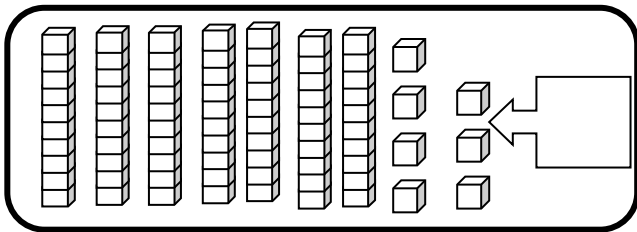
Seven 10-unit bars, three 1-unit cubes, and one 1-unit cube.

Six 10-unit bars and three 1-unit cubes.

Two 10-unit bars and three 1-unit cubes.

Three 10-unit bars, four 1-unit cubes, and two 1-unit cubes.

Five 10-unit bars, six 1-unit cubes, and one 1-unit cube.



2- Veja as respostas da atividade anterior e copie:

a) Os números pares: _____

b) Os números ímpares: _____

3- Represente com material dourado os números abaixo:

a) 38

b) 62

Visite nossas
redes sociais

SOS Professor

Atividades

Betânia Maximiano



<https://sosprofessoratividades.com>



<https://br.pinterest.com/betasobeta/sosprofessoratividades/>



<https://www.facebook.com/sosprofessoratividades/>



<https://www.instagram.com/sosprofessoratividades/>

https://www.youtube.com/channel/UCxN9wo1jE1txew9bzdO58A?view_as=subscriber



Produção: sosprofessoratividades.com
touro

Todos os direitos reservados ao sosprofessoratividades.com. É proibido distribuir, reproduzir ou vender este material por qualquer meio, seja eletronicamente ou impresso, bem como reivindicá-lo como seu e tentar modificar ou remover avisos de direitos autorais, logotipos ou marcas d'água, uma vez que é protegido por direitos autorais. O não cumprimento é uma violação da Lei de Direitos Autorais e pode ter consequências legais. Lei dos direitos autorais, nº 9.610/98

Cliparts que utilizo:



Accalia Digital



flaticon

freepik

