

Visite nossas
redes sociais



SOS PROFESSOR
ATIVIDADES

por Betânia Arrimiano



<https://sosprofessoratividades.com>



<https://br.pinterest.com/betasobeta/sosprofessoratividades/>



<https://www.facebook.com/sosprofessoratividades/>



<https://www.instagram.com/sosprofessoratividades/>



https://www.youtube.com/channel/UCxN9wo1jE1txew9bzdO58A?view_as=subscriber

Produção: sosprofessoratividades.com

Todos os direitos reservados ao sosprofessoratividades.com. É proibido distribuir, reproduzir ou vender este material por qualquer meio, seja eletronicamente ou impresso, bem como reivindicá-lo como seu e tentar modificar ou remover avisos de direitos autorais, logotipos ou marcas d'água, uma vez que é protegido por direitos autorais. O não cumprimento é uma violação da Lei de Direitos Autorais e pode ter consequências legais. Lei dos direitos autorais, nº 9.610/98

Cliparts que utilizo:



Quer mais atividades? Clique nas imagens abaixo.



NOME: _____
TURMA: _____ DATA: ____/____/____



Matemática

Descritores

Marque alternativa correta.

Questão 1

- A população de uma cidade é de 95.704 habitantes.
O número de pessoas que moram nesta cidade escrita por extenso é:
- (A) Noventa e cinco mil setecentos e quatro habitantes.
 - (B) Noventa e cinco mil e setenta e quatro habitantes.
 - (C) Noventa e cinco mil, setecentos e quarenta habitantes.
 - (D) Noventa e cinco mil e setenta e quarenta habitante.

Questão 2

- Um posto de combustível colocou um cartaz anunciando o preço da gasolina por 3,206 reais o litro.
Isso significa que o posto vende a gasolina a 3 reais e:
- (A) 0,206 centésimo de real.
 - (B) 0,206 décimos de real.
 - (C) 206 centésimos de real.
 - (D) 206 milésimo de real.

Questão 3

- No número 12 535, quantas unidades o algarismo 2 representa?
- A) 2 000
 - B) 200
 - C) 20
 - D) 2

Questão 4

Compare os números:

20,03


21,05

21,12

20,15

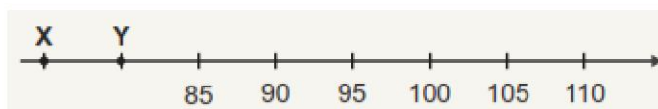
Escrevendo-os na ordem crescente, temos:

- (A) 20,03 21,05 21,12 20,15
- (B) 20,03 20,15 21,05 21,12
- (C) 21,05 20,03 21,12 20,15
- (D) 21,12 21,05 20,15 20,03



Questão 5

A reta numérica abaixo está dividida em segmentos de mesma medida.



Quais são os números representados pelos pontos X e Y nessa reta?

- A) 75 e 80.
- B) 79 e 80.
- C) 80 e 81.
- D) 83 e 84.

Questão 6

André comprou uma pizza inteira e comeu alguns pedaços como mostra a figura a seguir:

Dessa pizza, André comeu:

- A) a metade.
- B) a terça parte.
- C) a quarta parte.
- D) a quinta parte.

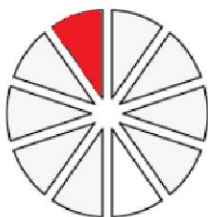


Questão 7

Observe a figura a seguir:

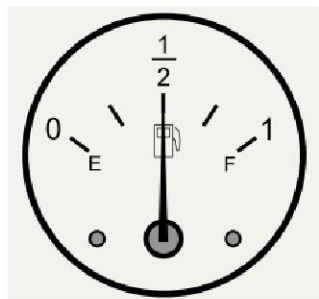
Essa figura foi colorida

- A) a metade.
- B) a terça parte.
- C) a quarta parte.
- D) um décimo.



Questão 8

No desenho ao lado está representado o medidor de combustível de um carro.



Qual é a representação decimal do número que o ponteiro desse medidor de combustível está indicando?

- A) 0,5
- B) 1,2
- C) 2,0
- D) 2,1

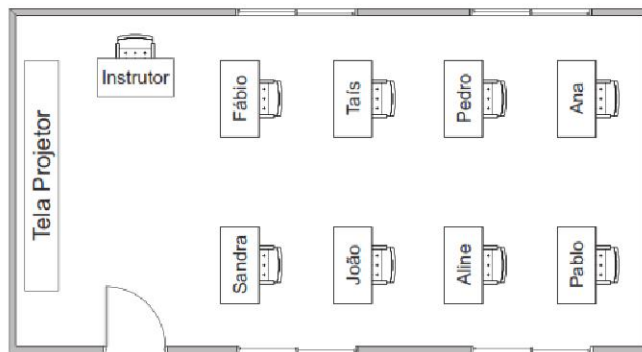
Questão 9

A representação decimal da fração $276/10$ é:

- (A) 27,6
- (B) 0,276
- (C) 0,0276
- (D) 2,76

Questão 10

Sandra participou de um treinamento na empresa em que trabalha. O desenho abaixo representa a planta baixa da sala onde foi realizado esse treinamento.



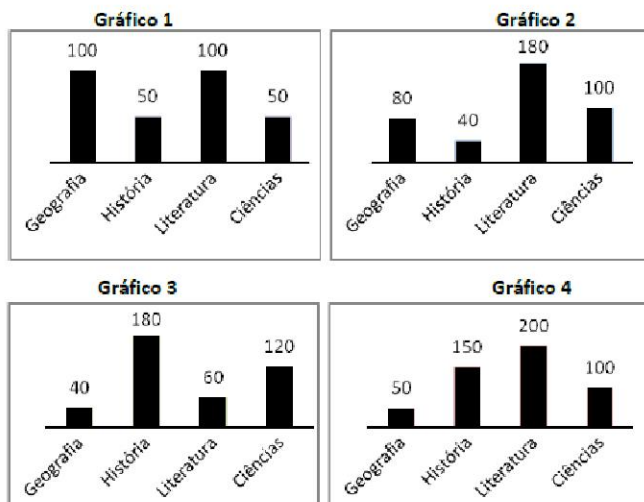
Qual é o funcionário que sentou-se à esquerda da mesa de Ana?

- A) Fábio.
- B) João.
- C) Pablo.
- D) Sandra.


Questão 11

Na biblioteca da Escola Monteiro Lobato há 400 livros classificados e a maior quantidade deles é de literatura.

Qual dos gráficos representa a afirmação acima?



- (A) Gráfico 1
- (B) Gráfico 2
- (C) Gráfico 3
- (D) Gráfico 4



Questão 12

João dirigia pela estrada com destino à praia de Jurerê-SC, quando avistou a placa representada abaixo.



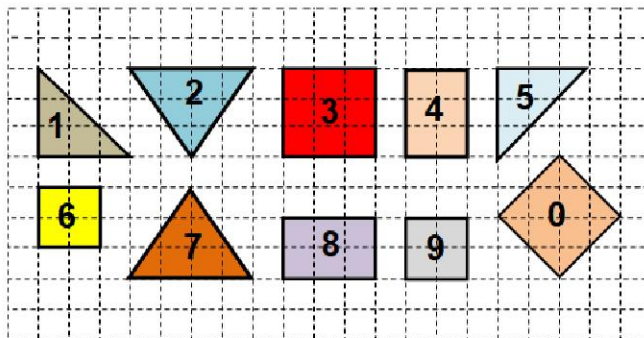
kidsalfabetizacao.blogspot.com.br/2010/03/placas-de-orientacao-de-estrada-para.html

De acordo com essa placa, quantos metros faltam para João chegar à praia de Jurerê?

- A) 8 m
- B) 80 m
- C) 800 m
- D) 8 000 m


Questão 13

Observe os polígonos construídos na malha quadriculada a seguir:



Analisando os quadriláteros, podemos concluir que são congruentes:

- A) 3 e 0.
- B) 3 e 8.
- C) 6 e 4.
- D) 6 e 9.



dosProfessoresAtividades.com

Questão 14

Observe abaixo os preços de uma loja em liquidação.

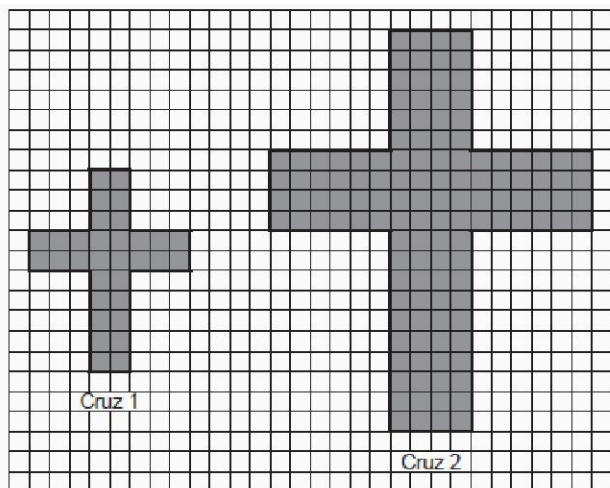
Liquidação	
Vestido _____	R\$ 25,00
Blusa _____	R\$ 15,00

Júlia comprou 2 blusas e 1 vestido que estavam em liquidação nessa loja.

Quanto ela gastou, no total, com essa compra?


- A) R\$ 30,00
- B) R\$ 40,00
- C) R\$ 55,00
- D) R\$ 65,00

Questão 15



Quantas vezes o perímetro da cruz 1 é menor do que o perímetro da cruz 2?

- A) 2 vezes.
- B) 4 vezes.
- C) 36 vezes.
- D) 96 vezes.



Gabarito

• 1 A

• 2 D

• 3 A

• 4 B

• 5 A

6 C

7 D

8 A

9 A

10 C

11 B

12 D

13 D

14 C

15 A