

ESCOLA \_\_\_\_\_

NOME: \_\_\_\_\_ DATA: \_\_\_\_/\_\_\_\_/\_\_\_\_




### **AVALIAÇÃO DIAGNÓSTICA DE MATEMÁTICA**

1. Veja a promoção que a Churrascaria Boizão está fazendo.

#### **PROMOÇÃO DE**

#### **CHURRASCO RODÍZIO**

- Para uma pessoa – 16 reais
- Para 5 pessoas – 65 reais
- Para 8 pessoas – 80 reais



Quanto deverá pagar cada pessoa de um grupo de 5 pessoas?

- (A) 65 reais (B) 60 reais (C) 13 reais (D) 48 reais (E) 15 reais

2. Dona Elza saiu de casa com R\$ 180,00. Gastou R\$ 51,00 no supermercado e R\$ 120,00 na farmácia. Dona Elza voltou para casa com:

- (A) 9 reais (B) 129 reais (C) 355 reais (D) 60 reais (E) 19 reais

3. Sou um número que quando se subtrai 15, fica igual a 30. Quem sou?

- (A) 20 (B) 23 (C) 45 (D) 60 (E) 32

4. Márcia tem um pacote com 50 folhas de papel. Pretende fazer um caderno de 15 folhas, para cada um dos seus 35 alunos. Vão faltar ou sobrar folhas? Quantas?

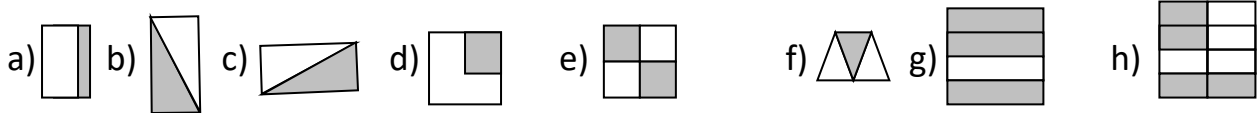
- (A) vão faltar 43 folhas  
(B) vão sobrar 43 folhas  
(C) vão sobrar 25 folhas  
(D) vão faltar 25 folhas  
(E) nenhuma das alternativas

5. Edgar recebe R\$ 65,00 por dia. Quanto ele recebe por semana?

- (A) R\$ 82,00 (B) R\$ 500,00 (C) R\$ 455,00  
(D) R\$ 820,00 (E) R\$ 130,00



6. Em qual das situações foi pintado um meio da figura?



- (A) a,c,d,e      (B) c,d,f,g      (C) b,c,e,g      (D) a,d,e,g      (E) b,c,e,h

7. Observe os números e marque a alternativa correta:

**3,4**

**1,7**

**0,3**

**0,5**

Que números são menores que um inteiro?

- (A) 3,4 e 0,5      (B) 1,7 e 3,4      (C) 3,4 e 0,3      (D) 0,3 e 0,5      (E) 1,7 e 0,5

8. Vilma comprou 4 pacotes de pirulitos com 25 pirulitos cada pacote. Vai arramá-los em saquinhos, colocando 5 pirulitos em cada um. Quantos saquinhos Vilma arrumará?

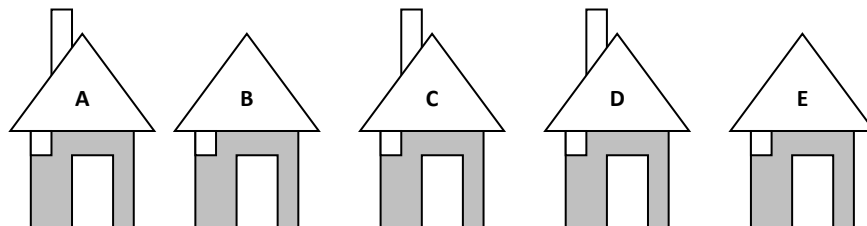
- (A) 21 saquinhos      (D) 34 saquinhos  
(B) 45 saquinhos      (E) 16 saquinhos  
(C) 20 saquinhos



9. Qual é a casa de Felipe?

A casa de Beto tem chaminé. A casa de Felipe fica à esquerda da casa de Beto e não é vizinha da casa C

- (A) Casa A  
(B) Casa B  
(C) Casa C  
(D) Casa D  
(E) Casa E



10. Observe o número e responda qual é o valor do numeral 3.

**13 800**

- (A) 300      (B) 3.000      (C) 3      (D) 30      (E) 30.000

As respostas só serão válidas, se os cálculos estiverem feitos ao lado da questão, ou no verso da folha. Numerados respectivamente, quando necessário.



ESCOLA \_\_\_\_\_

NOME: \_\_\_\_\_ DATA: \_\_\_\_/\_\_\_\_/\_\_\_\_




### AVALIAÇÃO DIAGNÓSTICA DE MATEMÁTICA

1. Veja a promoção que a Churrascaria Boizão está fazendo.

**PROMOÇÃO DE**

**CHURRASCO RODÍZIO**

- Para uma pessoa – 16 reais
- Para 5 pessoas – 65 reais
- Para 8 pessoas – 80 reais



Quanto deverá pagar cada pessoa de um grupo de 5 pessoas?

- (A) 65 reais    (B) 60 reais     (C) 13 reais    (D) 48 reais    (E) 15 reais

2. Dona Elza saiu de casa com R\$ 180,00. Gastou R\$ 51,00 no supermercado e R\$ 120,00 na farmácia. Dona Elza voltou para casa com:

- (A) 9 reais    (B) 129 reais    (C) 355 reais    (D) 60 reais    (E) 19 reais

3. Sou um número que quando se subtrai 15, fica igual a 30. Quem sou?

- (A) 20    (B) 23     (C) 45    (D) 60    (E) 32

4. Márcia tem um pacote com 50 folhas de papel. Pretende fazer um caderno de 15 folhas, para cada um dos seus 35 alunos. Vão faltar ou sobrar folhas? Quantas?





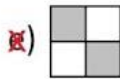


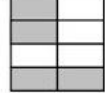
- (A) vão faltar 43 folhas  
(B) vão sobrar 43 folhas  
(C) vão sobrar 25 folhas  
(D) vão faltar 25 folhas  
 (E) nenhuma das alternativas

5. Edgar recebe R\$ 65,00 por dia. Quanto ele recebe por semana?

- (A) R\$ 82,00    (B) R\$ 500,00     (C) R\$ 455,00  
(D) R\$ 820,00    (E) R\$ 130,00



6. Em qual das situações foi pintado um meio da figura?

a)  b)  c)  d)  e)  f)  g)  h) 

(A) a,c,d,e      (B) c,d,f,g      (C) b,c,e,g      (D) a,d,e,g      (E) b,c,e,h

7. Observe os números e marque a alternativa correta:

**3,4**      **1,7**      **0,3**      **0,5**

Que números são menores que um inteiro?

- (A) 3,4 e 0,5      (B) 1,7 e 3,4      (C) 3,4 e 0,3      (D) 0,3 e 0,5      (E) 1,7 e 0,5

8. Vilma comprou 4 pacotes de pirulitos com 25 pirulitos cada pacote. Vai arruma-los em saquinhos, colocando 5 pirulitos em cada um. Quantos saquinhos Vilma arrumará?

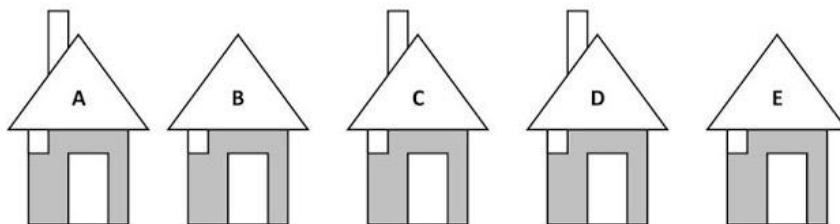
- (A) 21 saquinhos      (D) 34 saquinhos  
 (B) 45 saquinhos      (E) 16 saquinhos  
 (C) 20 saquinhos



9. Qual é a casa de Felipe?

A casa de Beto tem chaminé. A casa de Felipe fica à esquerda da casa de Beto e não é vizinha da casa C

- (A) Casa A  
 (B) Casa B  
 (C) Casa C  
 (D) Casa D  
 (E) Casa E



10. Observe o número e responda qual é o valor do numeral 3.

**13 800**

- (A) 300      (B) 3.000      (C) 3      (D) 30      (E) 30.000

As respostas só serão válidas, se os cálculos estiverem feitos ao lado da questão, ou no verso da folha. Numerados respectivamente, quando necessário.



**Visite nossos sites**

<https://sosprofessoratividades.com/>

<https://br.pinterest.com/betasobeta/sosprofessor-atividades/>

<https://www.facebook.com/sosprofessoratividades/>

<https://www.instagram.com/sosprofessoratividades/>

[https://www.youtube.com/channel/UCxN9wo1jE1txew9bzd\\_O58A?view\\_as=subscriber](https://www.youtube.com/channel/UCxN9wo1jE1txew9bzd_O58A?view_as=subscriber)



Produção SOSprofessor-atividades

Imagens da internet

SOS Professor  
Atividades

