

Visite nossas  
redes sociais



SOS PROFESSOR  
ATIVIDADES

por Betânia Arrimiano



<https://sosprofessoratividades.com>



<https://br.pinterest.com/betasobeta/sosprofessoratividades/>



<https://www.facebook.com/sosprofessoratividades/>



<https://www.instagram.com/sosprofessoratividades/>



[https://www.youtube.com/channel/UCxN9wo1jE1txew9bzdO58A?view\\_as=subscriber](https://www.youtube.com/channel/UCxN9wo1jE1txew9bzdO58A?view_as=subscriber)

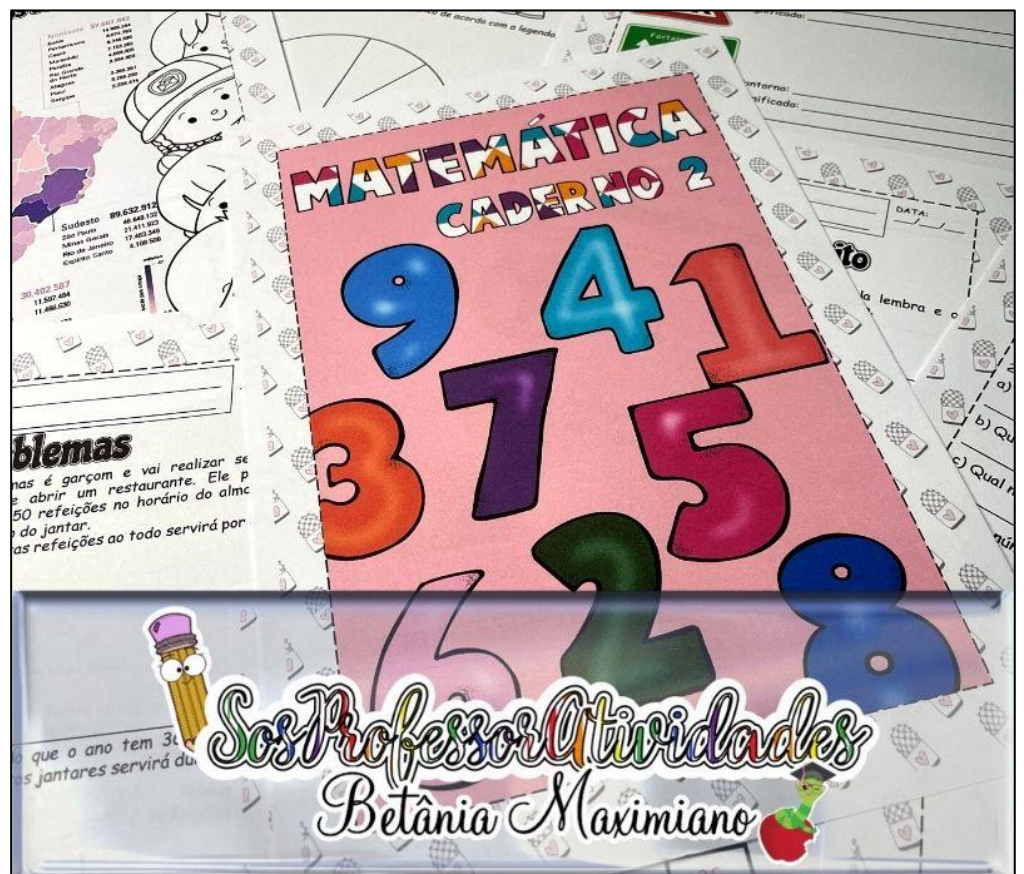
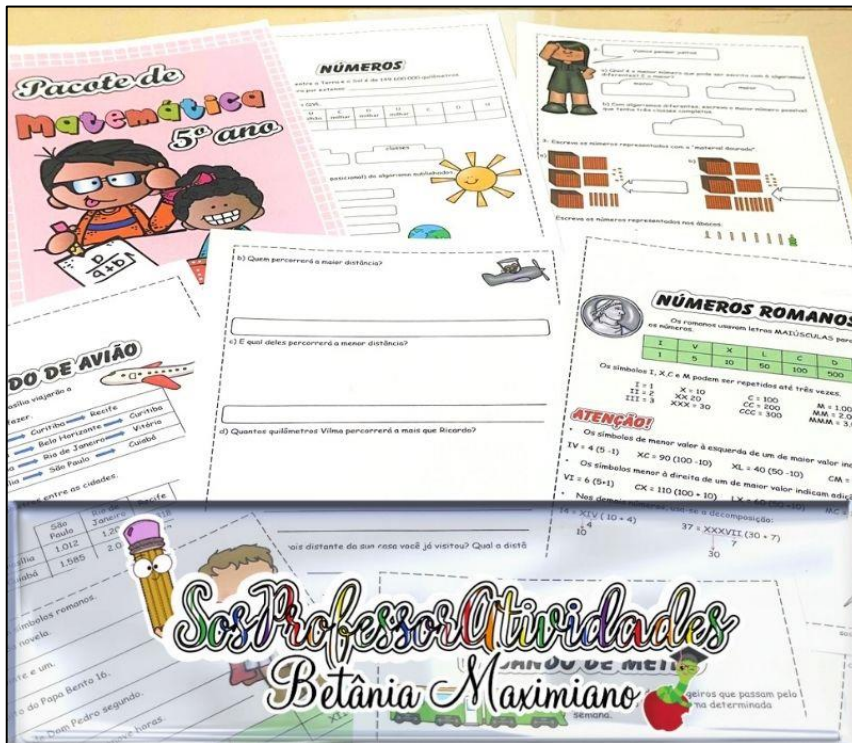
Produção: [sosprofessoratividades.com](https://sosprofessoratividades.com)

Todos os direitos reservados ao [sosprofessoratividades.com](https://sosprofessoratividades.com). É proibido distribuir, reproduzir ou vender este material por qualquer meio, seja eletronicamente ou impresso, bem como reivindicá-lo como seu e tentar modificar ou remover avisos de direitos autorais, logotipos ou marcas d'água, uma vez que é protegido por direitos autorais. O não cumprimento é uma violação da Lei de Direitos Autorais e pode ter consequências legais. Lei dos direitos autorais, nº 9.610/98

Cliparts que utilizo:



# Quer mais atividades? Clique nas imagens abaixo.




NOME: \_\_\_\_\_

TURMA: \_\_\_\_\_ DATA: \_\_\_\_/\_\_\_\_/\_\_\_\_



@sosprofessoratividades.com

## FIM DAS FÉRIAS




As férias terminaram e as pessoas se movimentam de uma cidade para outra, voltando para suas casas. Observe o roteiro que quatro famílias que estão em Curitiba vão percorrer em viagem de volta para casa.

Família Silva	Curitiba	Brasília	Recife
Família Porto	Curitiba	Belo Horizonte	Brasília
Família Costa	Curitiba	Rio de Janeiro	Vitória
Família Santos	Curitiba	São Paulo	Curitiba

Veja na tabela a distância, em quilômetros, entre algumas cidades.

	São Paulo	Rio de Janeiro	Recife	Brasília	Belo Horizonte
Cuiabá	1.585	2.026	3.426	1.134	1.614
Vitória	933	509	1.964	1.281	541
Curitiba	408	849	3.133	1.420	994
Brasília	1.012	1.204	2.318	-----	740



1- Observe as tabelas da página anterior e responda.

a) De qual cidade partiram todas as famílias?

b) Qual das famílias percorrerá a maior distância?

c) Qual delas percorrerá a menor distância?

d) Quantos quilômetros a família Costa percorrerá a menos que a família Santos?




2- Nem sempre as viagens de avião são muito rápidas, existem as escalas.

A escala é feita normalmente para reabastecer o avião e/ou para que novos passageiros possam embarcar.

a) A professora Ana vai sair de Florianópolis/SC no voo das 8 horas e 15 minutos com destino à Goiânia/GO, fazendo uma escala em São Paulo. De Florianópolis a São Paulo, a duração do voo é de 1 hora. Antes de seguir para Goiânia, o avião fica retido no aeroporto de São Paulo por 45 minutos. De São Paulo a Goiânia é mais 1 hora e 30 minutos de voo. Que horas Ana vai chegar em Goiânia?

Resposta: \_\_\_\_\_  
\_\_\_\_\_  
\_\_\_\_\_



NOME: \_\_\_\_\_

TURMA: \_\_\_\_\_ DATA: \_\_\_\_/\_\_\_\_/\_\_\_\_



@sosprofessoratividades.com

## FIM DAS FÉRIAS




As férias terminaram e as pessoas se movimentam de uma cidade para outra, voltando para suas casas. Observe o roteiro que quatro famílias que estão em Curitiba vão percorrer em viagem de volta para casa.

Família Silva	Curitiba	Brasília	Recife
Família Porto	Curitiba	Belo Horizonte	Brasília
Família Costa	Curitiba	Rio de Janeiro	Vitória
Família Santos	Curitiba	São Paulo	Curitiba

Veja na tabela a distância, em quilômetros, entre algumas cidades.

	São Paulo	Rio de Janeiro	Recife	Brasília	Belo Horizonte
Cuiabá	1.585	2.026	3.426	1.134	1.614
Vitória	933	509	1.964	1.281	541
Curitiba	408	849	3.133	1.420	994
Brasília	1.012	1.204	2.318	-----	740



1- Observe as tabelas da página anterior e responda.

a) De qual cidade partiram todas as famílias?

Curitiba

b) Qual das famílias percorrerá a maior distância?

Família Silva

c) Qual delas percorrerá a menor distância?

Família Costa

d) Quantos quilômetros a família Costa percorrerá a menos que a família Santos?

635 quilômetros



2- Nem sempre as viagens de avião são muito rápidas, existem as escalas.

A escala é feita normalmente para reabastecer o avião e/ou para que novos passageiros possam embarcar.

a) A professora Ana vai sair de Florianópolis/SC no voo das 8 horas e 15 minutos com destino à Goiânia/GO, fazendo uma escala em São Paulo. De Florianópolis a São Paulo, a duração do voo é de 1 hora. Antes de seguir para Goiânia, o avião fica retido no aeroporto de São Paulo por 45 minutos. De São Paulo a Goiânia é mais 1 hora e 30 minutos de voo. Que horas Ana vai chegar em Goiânia?

Ana chegará em Goiânia às 11 horas e 30 minutos.

Resposta: \_\_\_\_\_

\_\_\_\_\_  
\_\_\_\_\_

