

Visite nossas  
redes sociais



SOS PROFESSOR  
ATIVIDADES

por Betânia Arrimiano



<https://sosprofessoratividades.com>



<https://br.pinterest.com/betasobeta/sosprofessoratividades/>



<https://www.facebook.com/sosprofessoratividades/>



<https://www.instagram.com/sosprofessoratividades/>



[https://www.youtube.com/channel/UCxN9wo1jE1txew9bzdO58A?view\\_as=subscriber](https://www.youtube.com/channel/UCxN9wo1jE1txew9bzdO58A?view_as=subscriber)

Produção: [sosprofessoratividades.com](https://sosprofessoratividades.com)


Todos os direitos reservados ao [sosprofessoratividades.com](https://sosprofessoratividades.com). É proibido distribuir, reproduzir ou vender este material por qualquer meio, seja eletronicamente ou impresso, bem como reivindicá-lo como seu e tentar modificar ou remover avisos de direitos autorais, logotipos ou marcas d'água, uma vez que é protegido por direitos autorais. O não cumprimento é uma violação da Lei de Direitos Autorais e pode ter consequências legais. Lei dos direitos autorais, nº 9.610/98

Cliparts que utilizo:




# Quer mais atividades? Clique nas imagens abaixo.





# Números Ordinais

*SosProfessorAtividades.com*



NOME: \_\_\_\_\_

TURMA: \_\_\_\_\_


DATA: \_\_\_\_/\_\_\_\_/\_\_\_\_



# Números Ordinais

Os números ordinais indicam posição ou ordem.

@sosprofessoratividades.com



## SETEMBRO

D	S	T	Q	Q	S	S
					1	2
3	4	5	6	7	8	9
10	11	12	13	14	15	16
17	18	19	20	21	22	23
24	25	26	27	28	29	30

Observe o calendário ao lado e responda.

- A 1ª sexta-feira do mês é dia \_\_\_\_\_.
- Dia 20 é a \_\_\_\_\_ quarta-feira do mês.
- O trigésimo dia do mês é o dia \_\_\_\_\_.

## Alguns números ordinais

1º primeiro	60º sexagésimo
2º segundo	65º sexagésimo quinto
10º décimo	70º septuagésimo
11º décimo primeiro	79º septuagésimo nono
20º vigésimo	80º octogésimo
23º vigésimo terceiro	86º octogésimo sexto
30º trigésimo	90º nonagésimo
40º quadragésimo	94º nonagésimo quarto
45º quadragésimo quinto	100º centésimo
50º quinquagésimo	113º centésimo décimo terceiro
52º quinquagésimo segundo	200º ducentésimo



1- Indique com algarismos cada número ordinal abaixo. Depois escreva o número ordinal seguinte por extenso e com algarismos.

a) Décimo sexto: \_\_\_\_\_

\_\_\_\_\_ ; \_\_\_\_\_

b) Nonagésimo nono: \_\_\_\_\_

\_\_\_\_\_ ; \_\_\_\_\_

c) Centésimo nono: \_\_\_\_\_

\_\_\_\_\_ ; \_\_\_\_\_

2- Complete a sequência com números ordinais.

a) 46º, \_\_\_\_\_, \_\_\_\_\_, 49º, \_\_\_\_\_, 51º.


b) 207º, \_\_\_\_\_, 209º, \_\_\_\_\_, \_\_\_\_\_, 212º.

3- De olho na fila.

a) Ana é a 4ª da fila. Quantas pessoas estão na frente dela?

b) Em uma outra fila, há 15 pessoas.

Daniel é o penúltimo da fila. Qual a posição do Daniel?



c) Ontem, Breno ficou na fila do ônibus. Ele estava imediatamente atrás da 27ª pessoa da fila. Quantas pessoas estavam na sua frente?

d) Débora é a 11ª aluna a entrar na sala de aula. Quantos alunos entraram antes dela?

NOME: \_\_\_\_\_

TURMA: \_\_\_\_\_


DATA: \_\_\_\_/\_\_\_\_/\_\_\_\_



# Números Ordinais

Os números ordinais indicam posição ou ordem.

@sosprofessoratividades.com



## SETEMBRO

D	S	T	Q	Q	S	S
					1	2
3	4	5	6	7	8	9
10	11	12	13	14	15	16
17	18	19	20	21	22	23
24	25	26	27	28	29	30

Observe o calendário ao lado e responda.

- A 1ª sexta-feira do mês é dia 1º.
- Dia 20 é a 3ª quarta-feira do mês.
- O trigésimo dia do mês é o dia 30.

## Alguns números ordinais

1º primeiro	60º sexagésimo
2º segundo	65º sexagésimo quinto
10º décimo	70º septuagésimo
11º décimo primeiro	79º septuagésimo nono
20º vigésimo	80º octogésimo
23º vigésimo terceiro	86º octogésimo sexto
30º trigésimo	90º nonagésimo
40º quadragésimo	94º nonagésimo quarto
45º quadragésimo quinto	100º centésimo
50º quinquagésimo	113º centésimo décimo terceiro
52º quinquagésimo segundo	200º ducentésimo



1- Indique com algarismos cada número ordinal abaixo. Depois escreva o número ordinal seguinte por extenso e com algarismos.

a) Décimo sexto: 16º

Décimo sétimo : 17º

b) Nonagésimo nono: 99º

Centésimo : 100º

c) Centésimo nono: 109º

Centésimo décimo : 110º

2- Complete a sequência com números ordinais.

a) 46º, 47º, 48º, 49º, 50º, 51º.

b) 207º, 208º, 209º, 210º, 211º, 212º.


3- De olho na fila.

a) Ana é a 4ª da fila. Quantas pessoas estão na frente dela?

3 pessoas

b) Em uma outra fila, há 15 pessoas. Daniel é o penúltimo da fila. Qual a posição do Daniel?

Daniel é o 14º



c) Ontem, Breno ficou na fila do ônibus. Ele estava imediatamente atrás da 27ª pessoa da fila. Quantas pessoas estavam na sua frente?

26 pessoas

d) Débora é a 11ª aluna a entrar na sala de aula. Quantos alunos entraram antes dela?

10 alunos