

Visite nossas redes sociais



<https://sosprofessoratividades.com>



<https://br.pinterest.com/betasobeta/sosprofessoratividades/>



<https://www.facebook.com/sosprofessoratividades/>



<https://www.instagram.com/sosprofessoratividades/>



https://www.youtube.com/channel/UCxN9wo1jE1txew9bzdO58A?view_as=subscriber

Produção: sosprofessoratividades.com

Todos os direitos reservados ao sosprofessoratividades.com. É proibido distribuir, reproduzir ou vender este material por qualquer meio, seja eletronicamente ou impresso, bem como reivindicá-lo como seu e tentar modificar ou remover avisos de direitos autorais, logotipos ou marcas d'água, uma vez que é protegido por direitos autorais. O não cumprimento é uma violação da Lei de Direitos Autorais e pode ter consequências legais. Lei dos direitos autorais, nº 9.610/98

Cliparts que utilizo:




Quer mais atividades? Clique nas imagens abaixo.



SOS Professor Atividades
Betânia Maximiano

"O jacaré é guloso, fica sempre com a boca bem aberta para o que é maior".


Conheça os sinais:



MAIOR QUE




MENOR QUE



IGUAL A


Veja os exemplos abaixo:

12  10

(12 é MAIOR QUE 10)

18  20


(18 é MENOR QUE 20)

31  31


(31 é IGUAL A 31)




Para recortar e usar na lousa.



Menor que



Maiores que




Igual a

NOME: _____

TURMA: _____

DATA: ____/____/____



@sosprofessoratividades.com

Recorte e cole os sinais comparando os números.

23

16

47

28

82

74

95

33

55

92

72

72

38

50

14

42

29

27

85

80

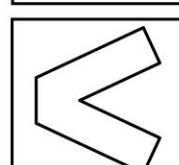
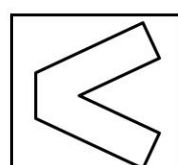
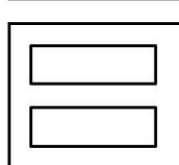
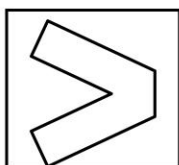
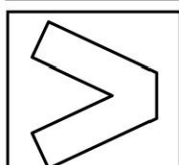
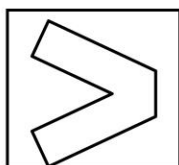
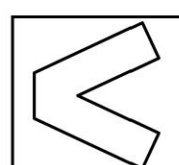
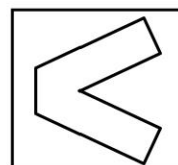
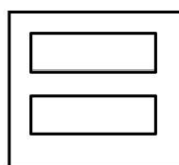
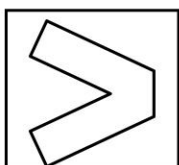
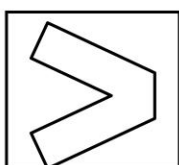
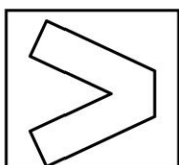
62

62




34

45



NOME: _____
TURMA: _____ DATA: ____/____/____



@sosprofessoratividades.com



1- Compare os números usando os sinais de > ou <.

- a) 372 849 d) 102 120
b) 935 938 e) 436 586
c) 382 388 f) 772 727



2- Escreva a sequência de números em ordem crescente usando corretamente o <.

- a) 152 - 251 - 215 - 512 - 521

3- Escreva a sequência de números em ordem decrescente usando o sinal >.

- a) 784 - 478 - 847 - 748 - 784

4- Dona Ana faz doces caseiros. Ela organiza os potes numerados em prateleiras. Não dá para ver os números de alguns potes. Só se sabe que a numeração é em ordem crescente e que, em uma prateleira, estão os números pares e, em outra, os ímpares. Complete a numeração dos potes.



Escreva os números dos potes:

a) Par: _____

b) Ímpar: _____

